
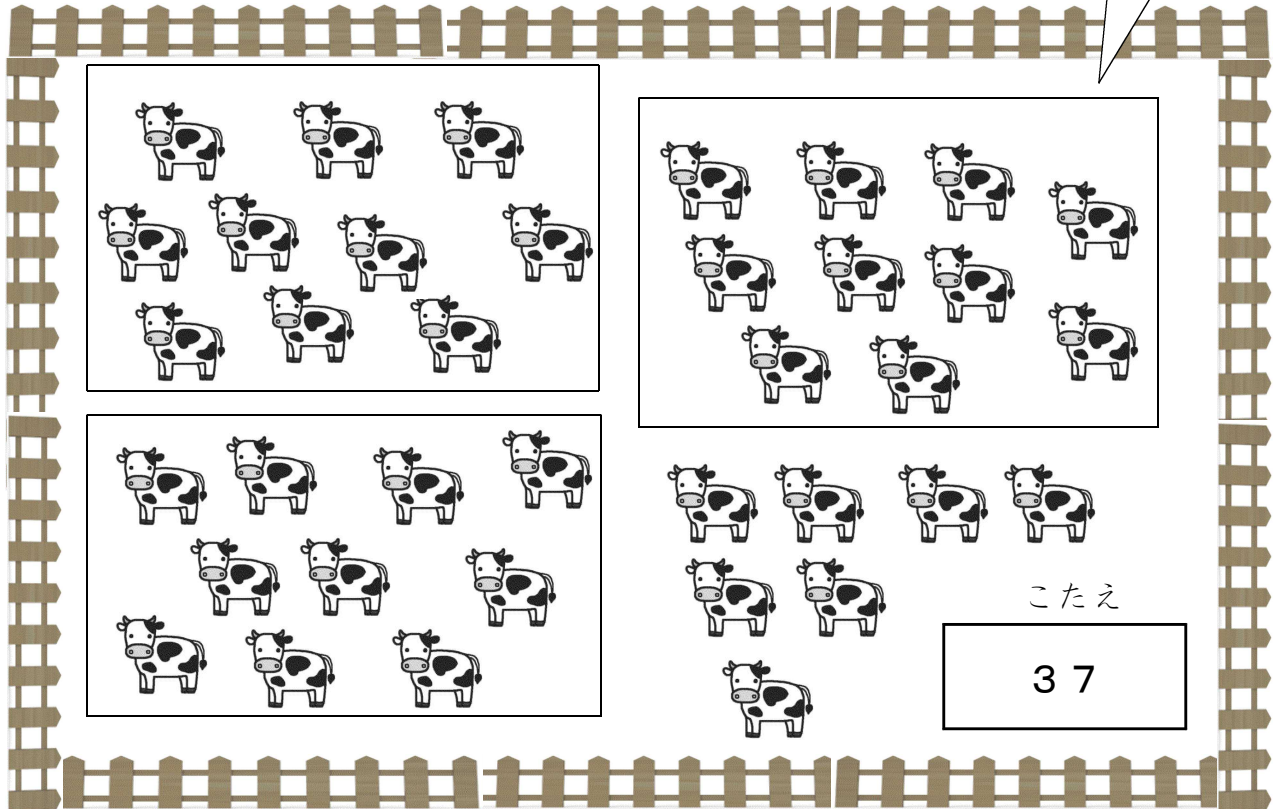


1 つぎの もんだいに こたえましょう。

10の まとまりを つくりましょう。

(1)  の かずを かぞえて  に かきましょう。



(2)  に あてはまる かずを かきましょう。

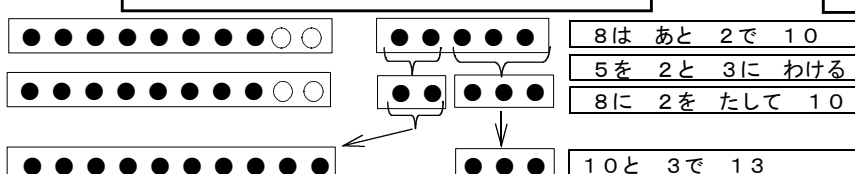
10を 6こと、1を 7こ あわせた かずは  です。

(3) つぎの けいさんをして、 こたえを  に かきましょう。

$30 + 70$

2 いちごを、ようたさんは 8こ、えりなさんは 5こ たべました。  
 あわせて なんこ たべましたか。

しき  こたえ



8は あと 2で 10  
 5を 2と 3に わける  
 8に 2を たして 10  
 10と 3で 13