

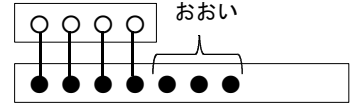
1 つぎの もんだいに こたえましょう。

- (1) けんたさんの かぞくは 4人、このみさんの かぞくは 7人 です。
どちらの かぞくが なん人 おおいですか。

しき

$$7 - 4$$


けんたさんの
かぞく
このみさんの
かぞく



こたえ

このみさん の かぞくが 3 人 おおい。

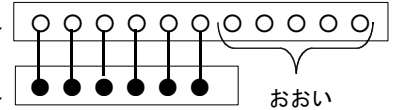
- (2) サッカーボールが 11こ あります。
バスケットボールが 6こ あります。
どちらの ボールが なんこおおいですか。



しき

$$11 - 6$$

サッカーボール
バスケット
ボール

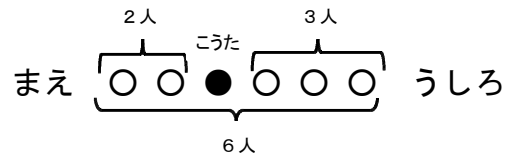


こたえ

サッカーボール が 5 こ おおい。

2 つぎの もんだいに こたえましょう。

- (1) おみせに 人が ならんで います。
こうたさんの まえに 2人います。
こうたさんの うしろに 3人います。
ぜんぶで なん人 ならんで いますか。



しき

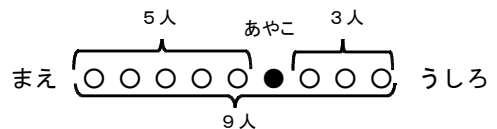
$$2 + 3 + 1$$

$$(2 + 1 + 3)$$

こたえ

6人

- (2) 2年生が ならんで います。
あやこさんの まえに 5人 います。
あやこさんの うしろに 3人 います。
ぜんぶで なん人 ならんで いますか。



しき

$$5 + 3 + 1$$

$$(5 + 1 + 3)$$

こたえ

9人