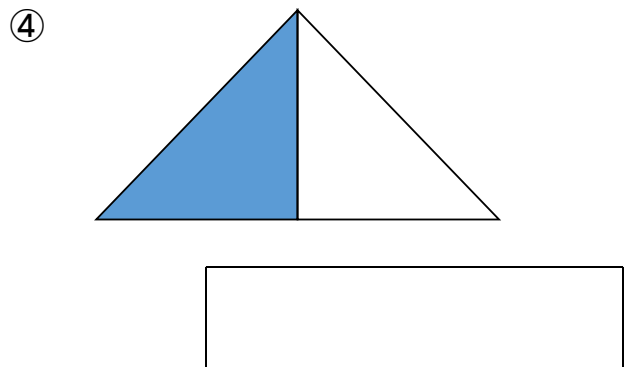
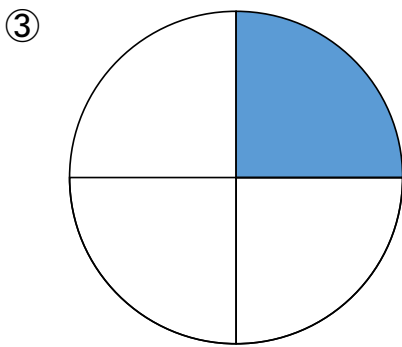

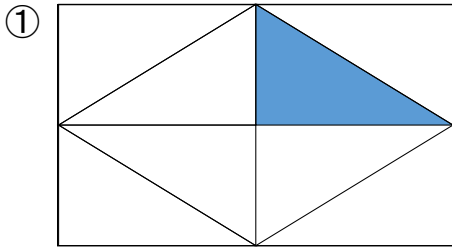


平成26年度 前年度サポートもんだい2
 ほっかいどうチャレンジテスト 算数小3 年 組 番 し名

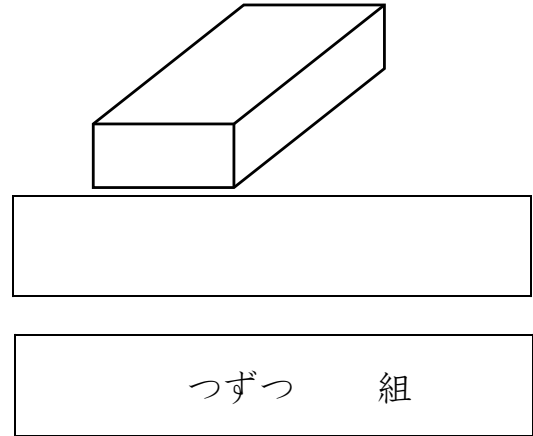
1 色をぬったところの大きさが全体の^{ぜんたい} $\frac{1}{4}$ になっている図はどれでしょうか。
 番号をえらびましょう。



2 右のはこの形について、次の問題に
 答えましょう。

(1) 「へん」はいくつあるでしょう。

(2) 形も大きさも同じ面は、いくつずつ
 何組あるでしょう。



3 次の問題に答えましょう。

(1) たろうさんは、午前8時30分に家を出て、午前9時に公園につきました。
 たろうさんの家から公園につくまで、何分かかったでしょう。

(2) たろうさんは、午前9時から午後1時まで公園であそびました。
 公園であそんでいた時間は、何時間でしょう。

5問中