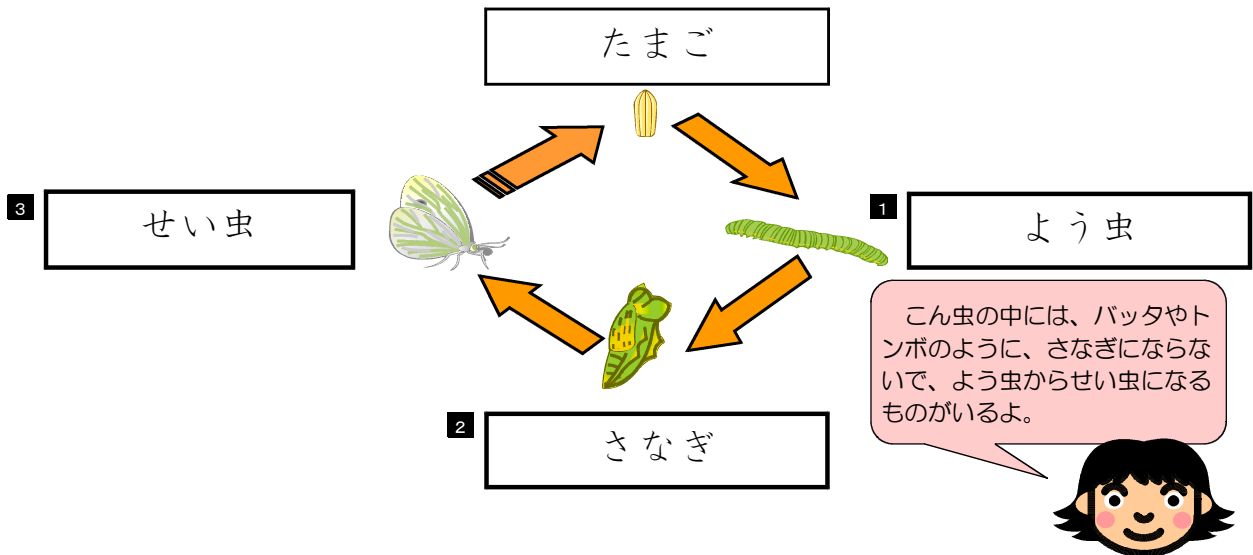
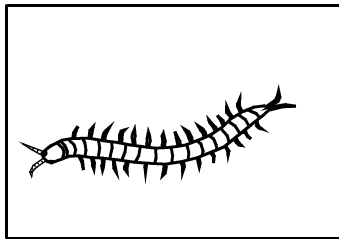


★先生方へ～解答欄の 1 ～10 は、問題結果登録の設問番号に対応しています。


1 モンシロチョウの^{そだ}育ち方についてしらべました。モンシロチョウは、下の
 ようなじゅんに育ちます。
 [] の中に、当てはまることばを書きましょう。



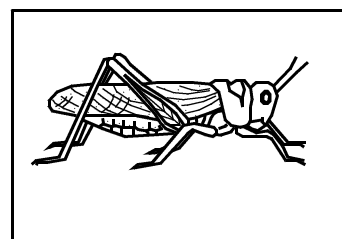
2 「ムカデ」「クモ」「バッタ」についてしらべました。これらの生きものの
 うち、こん虫は、どれですか。
 (ア)～(ウ)の記ごうをえらび、そのりゆうを書きましょう。



(ア) ムカデ



(イ) クモ



(ウ) バッタ

4

記ごう	えらんだりゆう
ウ	バッタのからだは、頭、むね、はらの ----- 3つの部分に分けられ、むねにはあしが ----- 6本あるからです。(れい)


3

はなごさんは、虫めがねで花のかんさつをします。

花を動かさないで、正しくかんさつしているのは、つぎのア～エのうち、どれですか。

ア

虫めがねを上下に動かす。



イ

虫めがねを前や後ろに動かす。





ウ

頭を前や後ろに動かす。



エ

虫めがねを上下に頭を前や後ろに動かす。



動かさないものかんさつするときは、体を近づけて、虫めがねを前や後ろに動かして、ピントを合わせます。

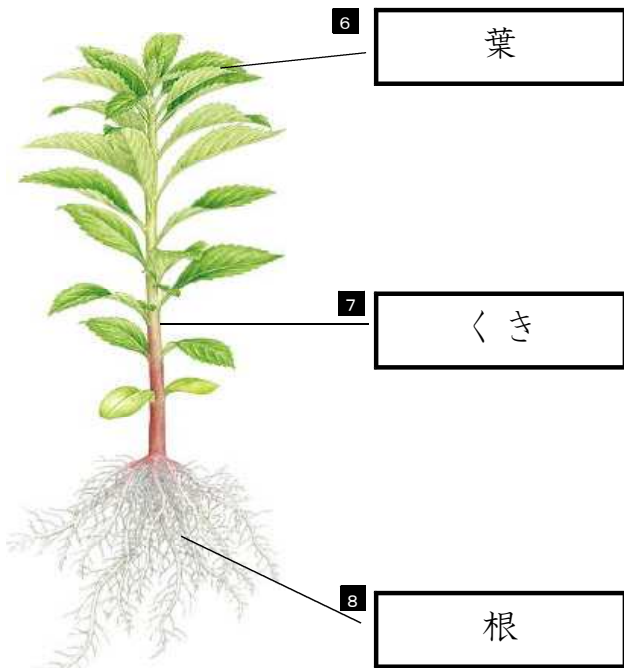
5

イ

4

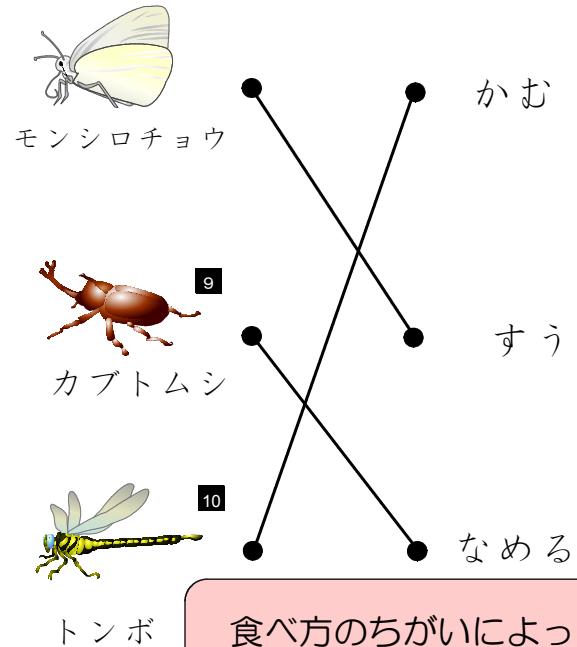
植物やこん虫についてしらべました。

(1) 植物のからだは、どんな部分からできていますか。名前を書きましょう。



色・形・大きさはちがっていても、植物の体は根・くき・葉からできています。

(2) こん虫は、それぞれ食べ物の食べ方がちがいます。つぎのこん虫の食べ物の食べ方を線でおすびましょう。



食べ方のちがいによって、それぞれ口の形がちがいますね。



10 問中