

平成26年度 2学期末問題（第5回）
 ほっかいどうチャレンジテスト さんすう小2 年 組 番 氏名

★先生方へ～解答欄の 1 ～ 21 は、問題結果登録の設問番号に対応しています。

1 つぎの計算をひっ算でしましょう。

(1) $46 + 57$

1

46
+ 57
—

(2) $175 - 32$

2

175
- 32
—

(3) $636 + 24$

3

636
+ 24
—

(4) $163 - 29$

4

163
- 29
—


(5) $87 + 408$

5

(6) $152 - 78$

6

2 がようし画用紙が170まいあります。62まいつかいました。
 のこった画用紙は何まいですか。
 しきと答えを書きましょう。



7

しき

8

こた
答え

※つぎのページにも、もんだいがあります。

3 つぎのもんだいに答えましょう。

(1) 計算をしましょう。

① 2×7

9

② 3×8

10

(2) リンゴが4こずつ入ったはこが、7はこあります。

リンゴは、ぜんぶで何こありますか。
しきと答えを書きましょう。



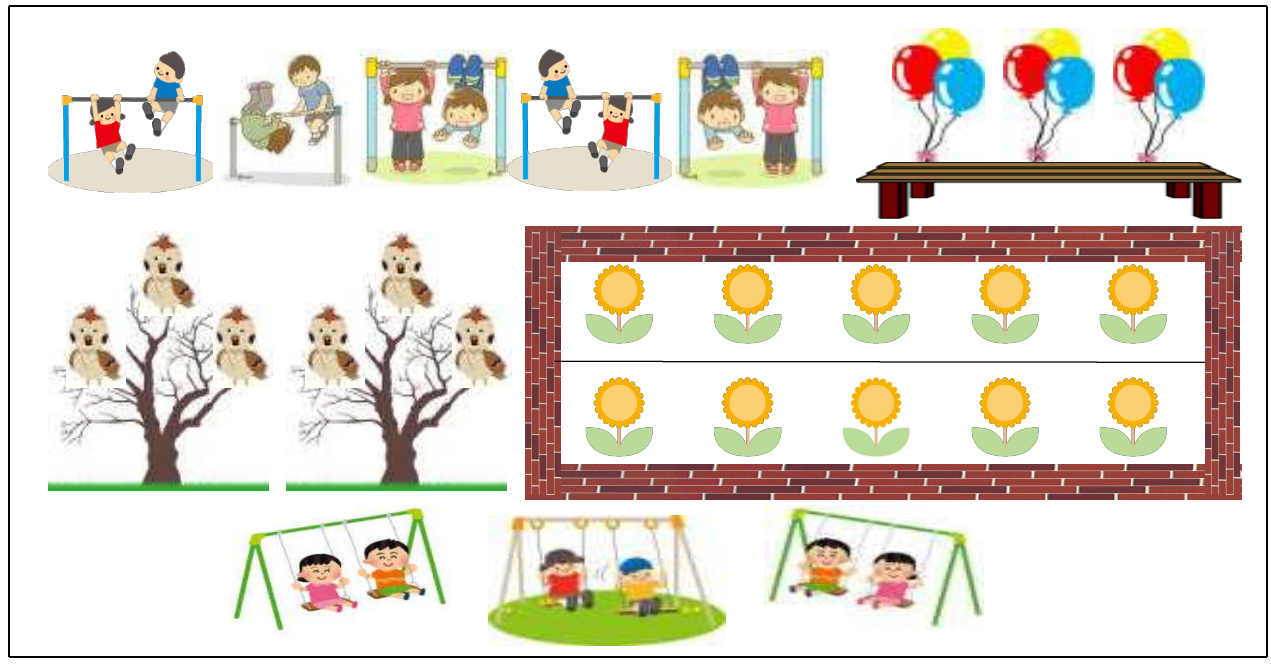
11

しき

12

こた
答え

(3) 下の絵を見て答えましょう。



① 2×5 になるもんだいをつくりましょう。

13

② 3×2 になるもんだいをつくりましょう。

14

※つぎのページにも、もんだいがあります。

4 つぎのもんだいに答えましょう。

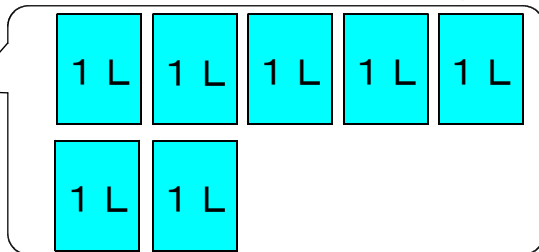
(1) にあてはまる数を書きましょう。

① 1 L は、1 d L を ¹⁵ あつめたかさです。

② 4 L は、1 L の ¹⁶ 分のかさです。

③ 1 L = ¹⁷ mL

(2) 下のバケツに入る水のかさを、ア、イのあらわし方で書きましょう。



¹⁸ ア L

¹⁹ イ mL

(3) ようたさんは、お米をとぐ時につかう水のかさをしらべて、水をせつやくしようと考えています。

ようたさんがお米をとぐ時、1回1回水をとめてとぐと、水を出しっぱなしにした時とくらべて、何L何dLの水をせつやくすることができますか。

水を出しっぱなしでお米をとぐ



○つかった水のかさ→ 8 L 4 d L

²⁰ しき

1回1回水をとめてお米をとぐ



○つかった水のかさ→ 3 L

²¹ こた 答え

21 問中