

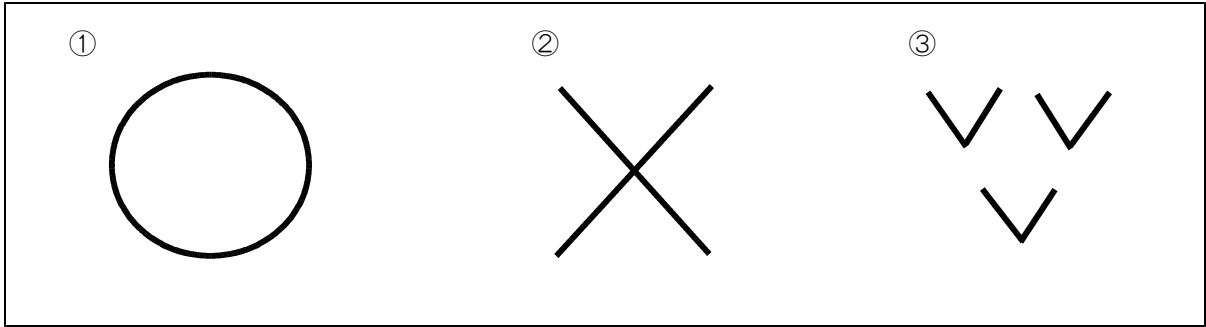
平成26年度 2学期末問題（第5回）
 ほっかいどうチャレンジテスト 社会小4 年 組 番 氏 名

★先生方へ～解答欄の ① ～ ⑨ は、問題結果登録の設問番号に対応しています。

① 次の問題に答えましょう。

(1) 次の地図記号は、何を表しているでしょうか。 に書きましょう。

【地図記号】



①

②

③

(2) 次の建物の地図記号を書きましょう。

① 学校
 ④

② 消防しよ
 ⑤

③ 寺院
 ⑥

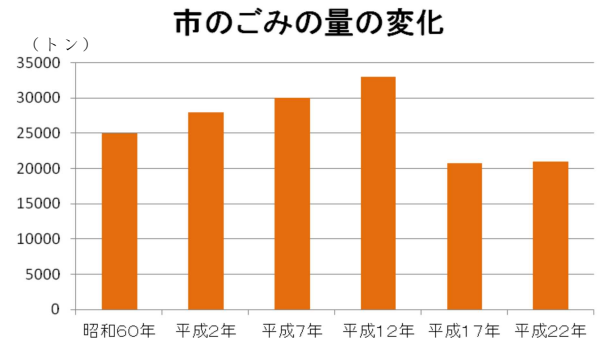
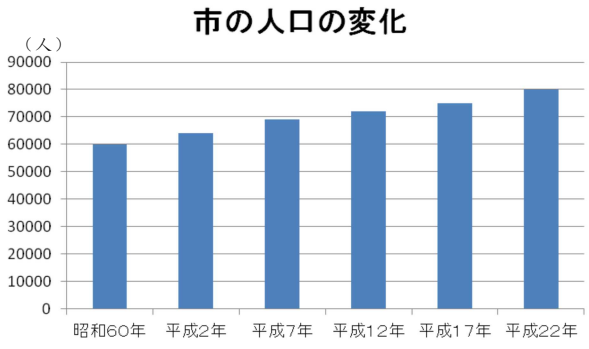
② じょう水場では、どのようなことをしているでしょうか。次のア～オから、正しいものをすべて選えらびましょう。

- ア 水に薬を入れて、水の中のにごりをかたまりにしてしずめる。
- イ よごれた水をきれいにして、川に流す。
- ウ 川などの水をきれいにして、飲み水にする。
- エ 水が流れる力を利用して電気をつくる。
- オ ごみを燃やしてはいにする。

⑦

3

たくみさんは市の人口とごみの量の^{りょう へんか}変化について調べています。次の問題に答えましょう。



(1) 上の「市のごみの^{りょう へんか}量の変化」のグラフから、どのようなことがわかりますか。 [] 中の言葉をすべて使って40字以内で答えましょう。

ごみの量 平成12年 平成17年 ふえている へった

8

										10字
										20字
										30字
										40字

(2) 上の「市の人口の変化」と「市のごみの^{りょう へんか}量の変化」の2つのグラフをくらべて、たくみさんが考えたこととして、もっともふさわしいものを次のア～エの中から1つ^{えら}選びましょう。

- ア 市の人口もごみの量も^{つづ}ふえ続けているので、市の人口がへると、ごみの量をへらすことができるのではないか。
- イ 市の人口はふえているのに、ごみの量は^{かんけい}へっているから、ごみの量の変化と、市の人口の変化には、^{さいりょう}関係がないのではないか。
- ウ ごみをへらすためには、使えるものを再利用したり、マイバッグを使ったりするなど、ごみを出さないくふうをすることが大切ではないか。
- エ 市の人口がふえているのに、平成17年にはごみの量がへっているのは、^{じゅうみん}住民が、ごみをへらすくふうをしているからではないか。

9 []

[] 9 問中