
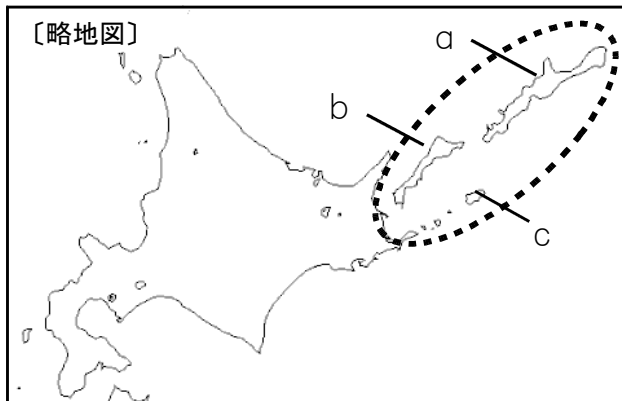


★先生方へ～解答欄の 1 ～ 10 は、問題結果登録の設問番号に対応しています。

1 略地図の  で囲まれた島々について述べた次の文の ① に当てはまることばを、漢字4字で書きなさい。

また、下線部 1～3 の島の位置を、略地図の a～c からそれぞれ選んだ時の組合せとして正しいものを、ア～エから選び、②に記号を書きなさい。

はばまいぐんとう 1、しこたん 2、くなしり 3、えとろふ からなる ① は日本の固有の領土であり、針葉樹林が広がり、周辺の海域は水産資源が豊富である。




1
①

- ア 1-a、2-b、3-c
- イ 1-c、2-a、3-b
- ウ 1-a、2-c、3-b
- エ 1-c、2-b、3-a

2
②

2 次の問いに答えなさい。

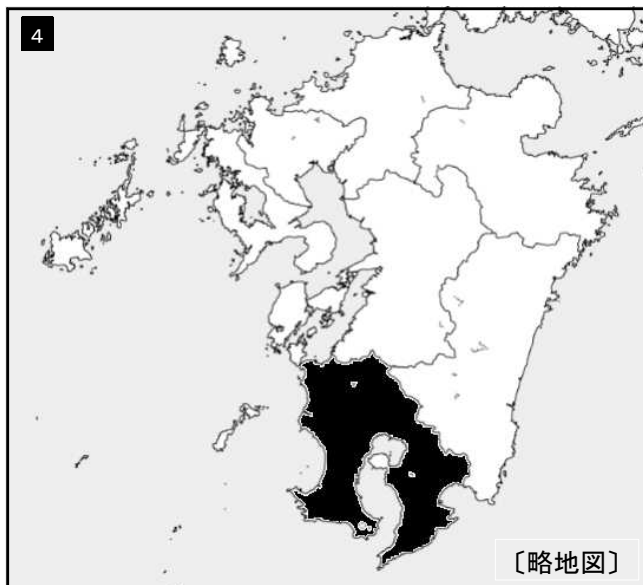
(1) 略地図中の太線  は、九州山地のおおよその位置を示しています。太線がかかる3つの県の組合せとして、正しいものを、次のア～エから1つ選び、記号で答えなさい。



- ア 大分県、宮崎県、熊本県
- イ 福岡県、長崎県、熊本県
- ウ 長崎県、宮崎県、福岡県
- エ 大分県、福岡県、熊本県

3
③

(2) 略地図は、資料にある鹿児島県の人口密度を【凡例】に従い、表したものです。それにならって、佐賀県の人口密度を求め、【凡例】に従い、地図に書きなさい。



【凡例】 単位 (人/km²)

	400以上
	300以上400未満
	200以上300未満
	200未満

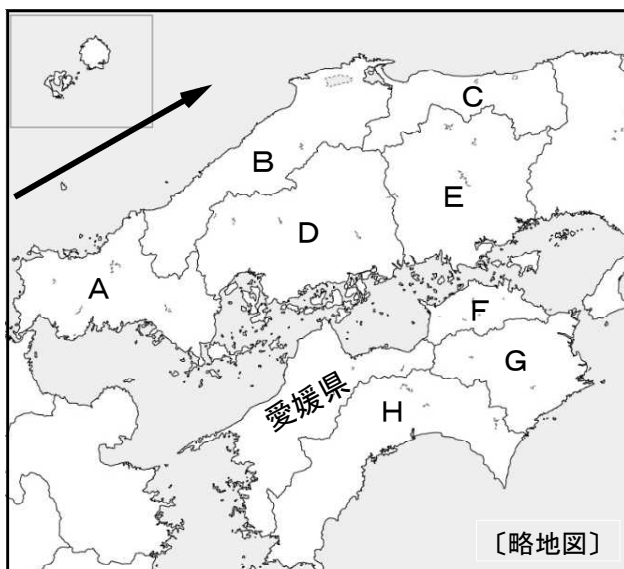
【資料】 鹿児島県と佐賀県の人口密度

県名	鹿児島	佐賀
面積 (km ²)	9189	2440
人口 (千人)	1680	840
人口密度 (人/km ²)	182.8	

※面積、人口とも2013年
 (「日本国勢図絵2014/2015」より作成)

※この問題の解答は、略地図に直接書き込んでください。

3 次の問いに答えなさい。



(1) 略地図中の矢印は、ある海流のおおよその位置を示したものです。この海流の名称と、海水温の分類の組合せとして、正しいものを、次のア～エから1つ選び、記号で答えなさい。

- | | |
|---|---------|
| ア | 対馬海流、暖流 |
| イ | 対馬海流、寒流 |
| ウ | 千島海流、暖流 |
| エ | 千島海流、寒流 |

5

(2) 中国・四国地方の県の中には、「愛媛県と松山市」のように、県名と県庁所在地名とが異なる県が、愛媛県のほかに2つあります。その2つの県を略地図中のA～Hから選び、記号で答えなさい。また、県庁所在地名も書きなさい。

6 記号 県庁所在地名

--	--

7 記号 県庁所在地名

--	--

4

次の問いに答えなさい。

年代	できごと
1825	a <u>世界で初めて蒸気鉄道が開通する。</u>
1840	b <u>アヘン戦争が始まる。</u>
1853	ペリーが浦賀に来航する。
1857	インド大反乱が始まる。
1854	日米和親条約を結ぶ。
1858	c <u>日米修好通商条約を結ぶ。</u>

(1) 下線部 a にかかわり、イギリスでは、工業化がすすみ、社会だけでなく人々の生活も大きく変化していきました。この変化を何と書いて書きなさい。

8

(2) 下線部 b について、この戦争の原因ともなった、清からイギリスへの輸出品として、最も適当なものを、次のア～エから1つ選び、記号で答えなさい。

- | | |
|---|-----|
| ア | 砂糖 |
| イ | 茶 |
| ウ | 綿織物 |
| エ | 香辛料 |

9

(3) 下線部 c について、この条約が日本にとって不利な不平等条約である内容を2つ書きなさい。

10

10問中