

平成26年度

がくねんまつもんだい（だい8かい）

ほっかいどうチャレンジテスト さんすうしょう1 ねん くみ ばん なまえ

★先生方へ～解答欄の 1 ～ 24 は、問題結果登録の設問番号に対応しています。

1

つぎの けいさんを しましょう。

(1) $8 + 4$

1

(2) $9 + 5$

2

(3) $3 + 9$

3

(4) $7 + 8$

4

(5) $19 - 4$

5

(6) $12 - 7$

6

(7) $18 - 9$

7

(8) $11 - 4$

8

※つぎのページにも、もんだいがあります。

2 に あてはまる かずを かきましょう。

(1) $12 - 13 - 14 - 15 - \boxed{} - 17$

(2) $2 - 4 - 6 - 8 - 10 - \boxed{}$

(3) $6 - \boxed{} - 4 - 3 - 2 - 1$

(4) $15 - \boxed{} - 13 - 12 - 11 - \boxed{}$

3 つぎの けいさんを しましょう。

(1) $1 + 3 + 4$

14

(2) $7 - 4 - 2$

15

(3) $10 - 4 + 2$

16

(4) $14 + 5 - 7$

17

※つぎのページにも、もんだいがあります。

4

つぎの もんだいに こたえましょう。

(1) ゆきが たくさんふったので ゆきがっせんをします。

りゅうたさんは ゆきだまを 9こ、

さおりさんは 7こ つくりました。

ゆきだまは ぜんぶで なんこになりますか。

しきと こたえをかきましょう。

18
しき

19
こたえ


(2) みかんが 9こ ありました。

ゆうとさんが 3こ たべました。

みきこさんが 2こ たべました。

みかんは なんこ のこりましたか。

しきと こたえを かきましょう。



20
しき

21
こたえ

(3) あかい おりがみが 17まい、 あおい おりがみが 8まい
あります。

どちらが なんまい おおいでしょうか。

しきと こたえを かきましょう。

22
しき


こたえ

23


※つぎのページにも、もんだいがあります。

5

えをみて、 $5 + 4$ のしきになる もんだいを つくりましょう。



24



24 問中