

平成26年度 学年まつもんだい(だい8回)
 算数小2年組 番名前

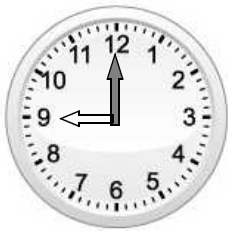
★先生方へ～解答欄の 1 ～ 27 は、問題結果登録の設問番号に対応しています。

1 つぎのもんだいに答えましょう。

(1) りょうさんたちは、森林公園に遠足へ出かけました。下の時計を見て、それぞれの時こくを午前か午後をつけて書きましょう。



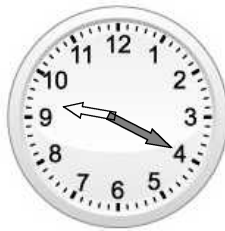
朝、家を出る



1



バスでいから
バスにのる



2



みんなであそぶ



3

(2) りょうさんたちが、バスにのっていた時間は、何分間でしょうか。



バスにのる



バスをおりる

4 答え

2 つぎの計算をしましょう。

(1) 6×7

5

(2) 8×6

6

(3) 9×4

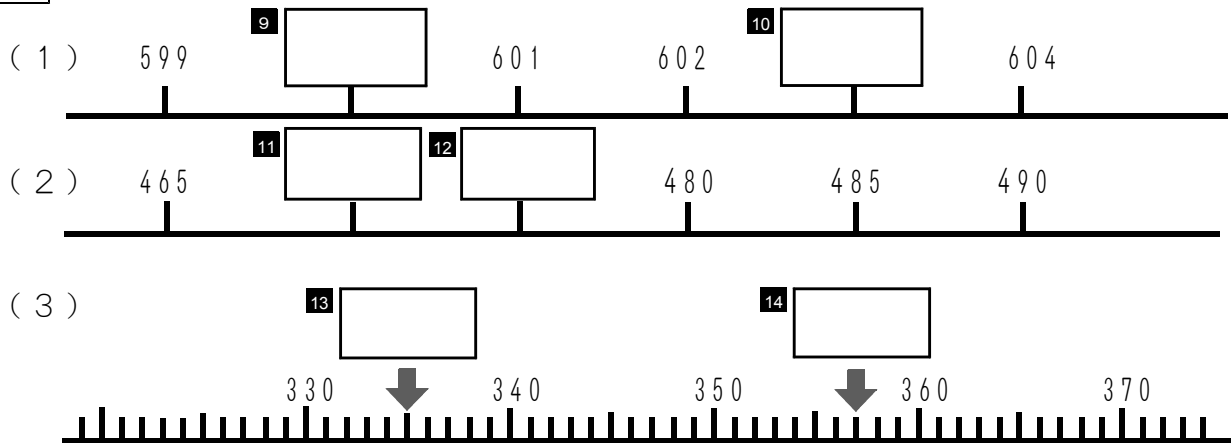
7

(4) 7×8

8

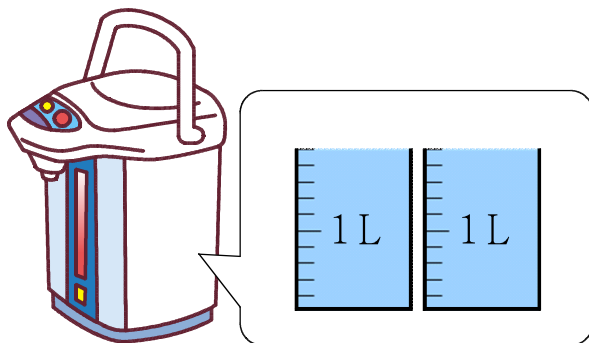
※つぎのページにも、もんだいがあります。

3 にあてはまる数を書きましょう。



4 つぎのもんだいに答えましょう。

(1) 下のポットに入る水のかさを、ア、イ、ウのあらわし方で書きましょう。



- 15 ア L
- 16 イ d L
- 17 ウ m L

(2) そういちろうさんは、じょうろに水を入れて花だんに水やりをします。大きなじょうろには2 L 4 d L、小さなじょうろには1 L 3 d L入ります。大きなじょうろは、小さなじょうろより何 L 何 d L 多く水が入りますか。しきと答えを書きましょう。

【大きなじょうろ】

2 L 4 d L

【小さなじょうろ】

1 L 3 d L

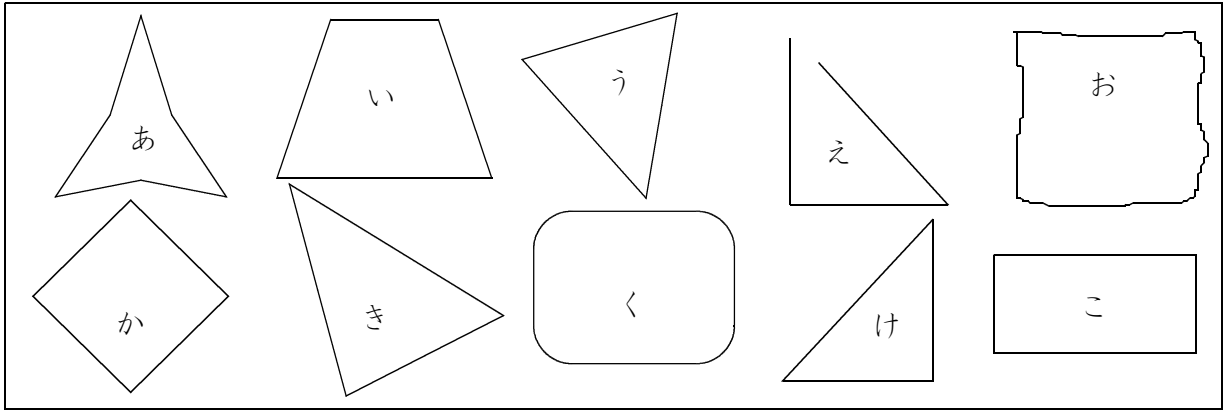
18 しき

19 答え 多く水が入る。

※つぎのページにも、もんだいがあります。

5 つぎのもんだいに^{こた}答えましょう。

(1) 下の^ず図から^{さんかくけい}三角形と^{しかくけい}四角形を見つけて、^き記ごうを書きましょう。

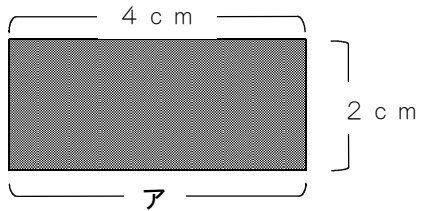


20 ^{さんかくけい} 三角形

21 ^{しかくけい} 四角形

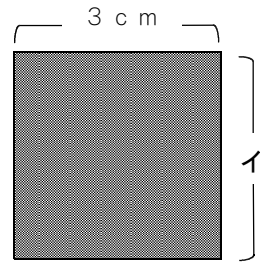
(2) つぎの^{なが}ア、イの長さをもとめましょう。

^{ちやうほうけい} 長方形



22 ア

^{せいほうけい} 正方形




23 イ

(3) つぎの①、②の^{かたち}形を下の^{ほうし}方がん紙にかきましょう。


① たて2 cm、よこ3 cmの^{ちやうほうけい}長方形

② ^{ちやうかく}直角になる2つの^{なが}へんの長さがどちらも3 cmの^{ちやうかくさんかくけい}直角三角形

24 ①



25 ②



(1マスは、たて・よこ1 cmです。)


※つぎのページにも、もんだいがあります。

6

つぎのもんだいに^{こた}答えましょう。


(1) $500 - 240$ のしきになるもんだいをつくりましょう。

26



(2) 6×7 のしきになるもんだいをつくりましょう。

27



27問中