




★先生方へ～解答欄の 1 ～ 16 は、問題結果登録の設問番号に対応しています。

正答

- 1
- (1) 1 メスシリンダー  目もりは、液面のへこんだ下の面を真横から見て読み取ります
- (2) 2 C
- (3) 3 ①
- (4) 4 ①
- 2
- (1) 5 ①  2つ以上の条件を同時に変えると、どちらが必要かわからなくなるので、調べる条件だけを変えて、ほかの条件は同じにします。
- (2) 6 (例1) 肥料をあたえる条件を同じにしていないから。
 (例2) 肥料をあたえる条件を同じにしないと、実験結果を比べることができないから。
- 7 番号 ③
- (3) 8 肥料 と 日光 ※ 日光と肥料でもよい
- 3
- (1) 9 ①
- (2) 10 B
- (3) 11 ウ
- (4) 12 台風
- 4
- (1) 13 ① → ② → ③
- (2) 14 A
- (3) 15 小さく ・ 大きく  雨がふり続いたり、台風などで大雨がふったりすると、川の水の量がふえて、流れが速くなり、流れる水のはたらきが大きくなります。
- (4) 16 ア