


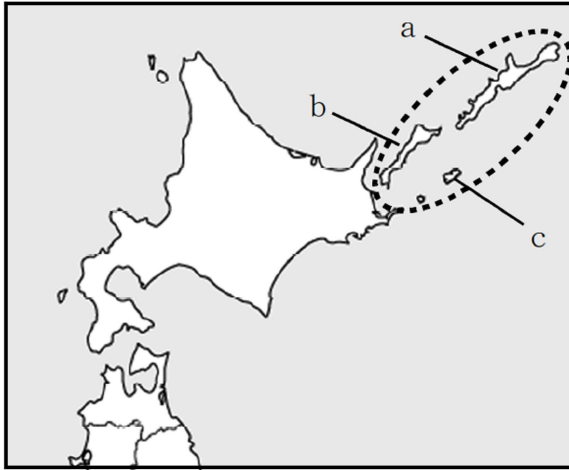
**平成26年度**      **学年末問題（第8回）**  
**ほっかいどうチャレンジテスト**    **社会小6年組 番氏名**

★先生方へ～解答欄の ①～⑩ は、問題結果登録の設問番号に対応しています。

**1** 略地図の  で囲まれた島々について述べた次の文の ① に当てはまる言葉を、漢字2字で答えましょう。  
 また、下線部 1～3 の島の位置を、略地図の a～c からそれぞれ選んだときの組合せとして正しいものを、ア～エから選び②に記号を書きなさい。

はほまいぐんとう    しこたんとう    くなしりとう    えとろふとう  
 歯舞群島、 1 色丹島、 2 国後島、 3 択捉島 からなる ① 領土は日本固有の領土であり、  
しんようじゅりん 針葉樹林が広がり、周辺の海域は、水産資源が豊富である。

[略地図]



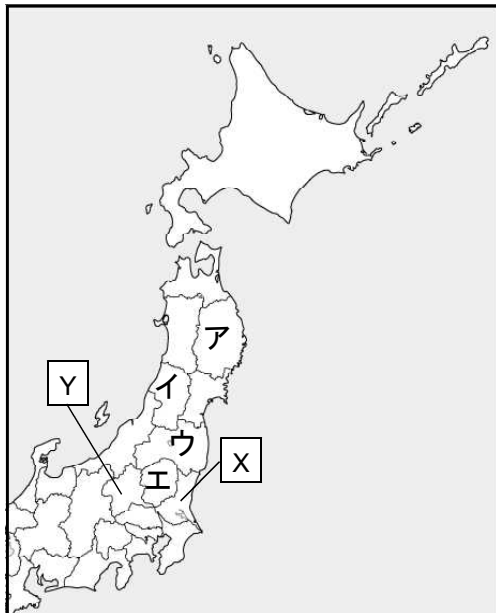
① 1 領土

- |   |                     |
|---|---------------------|
| ア | 1 - a、 2 - b、 3 - c |
| イ | 1 - c、 2 - a、 3 - b |
| ウ | 1 - a、 2 - c、 3 - b |
| エ | 1 - c、 2 - b、 3 - a |

② 記号… 2

**2** 次の問題に答えましょう。

[略地図]



(1) 略地図中の X、Y の県の名前を書きましょう。

X 3 県

Y 4 県

(2) 次の県の位置を略地図中のア～エの中から選んで記号で書きましょう。

福島県 5

3

太郎さんは、太平洋戦争後の日本の主なできごとをカードにまとめました。次の問題に答えましょう。

【太郎さんがまとめたカード】

A

東京オリンピックが開かれる。

産業が急速に成長し、アジアで初めてのオリンピックが日本で開かれた。

B

( ① ) 平和条約が結ばれる。

アメリカで開かれた平和会議で世界の48か国と平和条約を結び、独立を回復した。

C

沖縄が日本に返還される。

沖縄県の面積の10%をしめるアメリカ軍基地は、今も残されたままである。

D

日本が ( ② ) に加盟する。

国際社会の平和を守るためにつくられた組織への加入が認められ、国際社会に復帰した。

E

日本国憲法が公布される。

平和と民主主義が日本の進む方向として定められた。

(1) ①と②に入る言葉を書きましょう。

①

6

②

7

(2) A～Eのカードを、できごとがあった順に左から並べましょう。

8

