


1 家を出てから学校につくまでの時間は、何分間でしょうか。



25分間

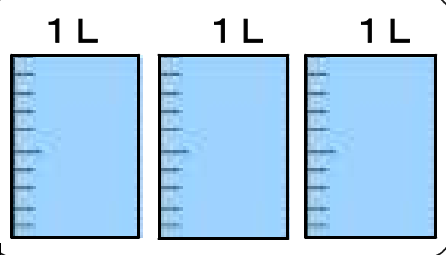
時計の長いはりが1めもりすすむ時間を1分間といいます。

2 つぎの問題に答えましょう。

(1) 下の電気ポットに入る水のかさを、ア、イ、ウのあらわし方で書きましょう。



1 L = 10 dL  
1 L = 1000 mL

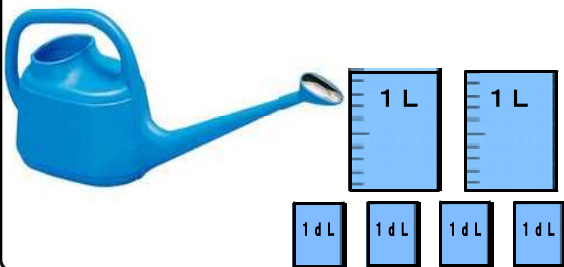


- ア  L
- イ  dL
- ウ  mL

(2) りょうさんは、じょうろに水を入れて花だんに水やりをします。  
 大きなじょうろには2 L 4 dL、小さなじょうろには1 L入ります。  
 大きなじょうろは、小さなじょうろより何L何dL多く水が入りますか。  
 式と答えを書きましょう。

式は、  
 [大きなじょうろの水のかさ] - [小さなじょうろの水のかさ] となります。

【大きなじょうろ】



式

答え

多く水が入る。

【小さなじょうろ】

