

1 数字で書きましょう。

(1) 四千五百八十八万三千百六十八

4 5 8 8 3 1 6 8

(2) 三百二十万三百二

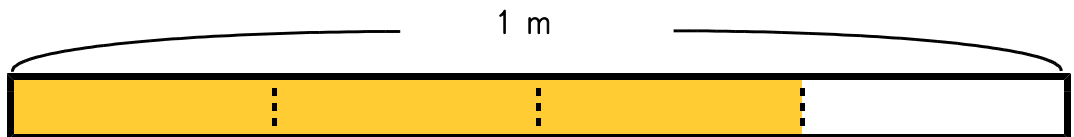
3 2 0 0 3 0 2

位取り表を書くともちがえにくくなります。

千万の位	百万の位	十万の位	一万の位	千の位	百の位	十の位	一の位

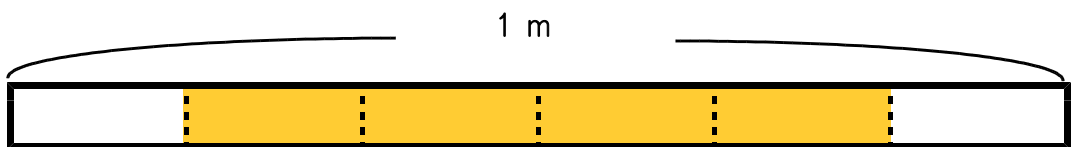
2 色をぬった部分の長さやかさを分数で表しましょう。

(1)



$\frac{3}{4}$ m

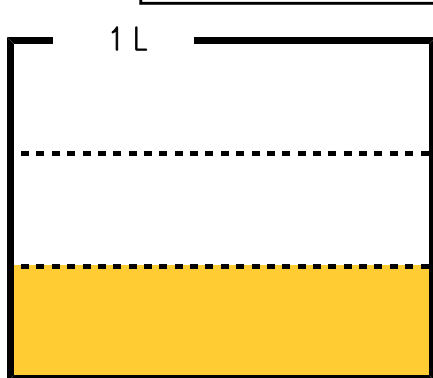
(2)



色をぬった部分だけ数えます。
「1 mを6等分した長さの4つ分の長さ」
です。

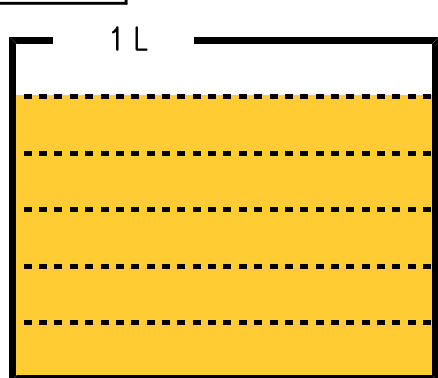
$\frac{4}{6}$ m

(3)



$\frac{1}{3}$ L

(4)



$\frac{5}{6}$ L