

★先生方へ～解答欄の 1 ～ 15 は、問題結果登録の設問番号に対応しています。

1  に あてはまる かずを かきましょう。

(1)  1 —  2 —  <sup>1</sup> —  4 —  5

(2)  3 —  <sup>2</sup> —  5 —  6 —  7 —  <sup>3</sup> —  9 —  10

2  に あてはまる かずを かきましょう。

(1) 1 と 9 で  <sup>4</sup>

(2) 3 と  <sup>5</sup> で 10

(3)  <sup>6</sup> と 6 で 10

3 おなじ こたえに なる けいさんを、せんで つなぎましょう。

<sup>7</sup>  $2 + 3$

<sup>8</sup>  $3 + 7$

<sup>9</sup>  $2 + 2$

●

●

●

●

●

●

$5 + 5$

$0 + 4$

$1 + 4$

※つぎのぺえじにも、もんだいがあります。

4 つぎの もんだいに こたえましょう。


(1) まえから 2ひきめに いろを ぬりましょう。





(2) みぎから 3こまで いろを ぬりましょう。



5 つぎの もんだいに こたえましょう。

(1)  は、あわせて なんぼんですか。  
たんぼほ

しきと こたえを かきましょう。



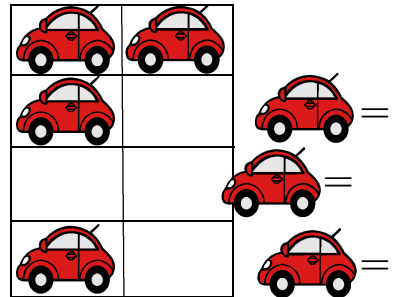
12

しき

13

こたえ

(2) くるまが 4だい とまっています。そこに、  
3だい くと、ぜんぶで なんだいに  
なりますか。  
しきと こたえを かきましょう。



14

しき

15

こたえ

15 問中