

平成27年度 1学きまつ もんだい (だい2かい)
 ほっかいどうチャレンジテスト さんすう小2 くみ ばん 名まえ

★先生方へ～解答欄の 1 ～ 15 は、問題結果登録の設問番号に対応しています。

1 つぎのひっ算をしましょう。

(1) 1
$$\begin{array}{r} 28 \\ + 45 \\ \hline \end{array}$$

(2) 2
$$\begin{array}{r} 73 \\ + 17 \\ \hline \end{array}$$

(3) 3
$$\begin{array}{r} 85 \\ - 5 \\ \hline \end{array}$$

(4) 4
$$\begin{array}{r} 62 \\ - 19 \\ \hline \end{array}$$

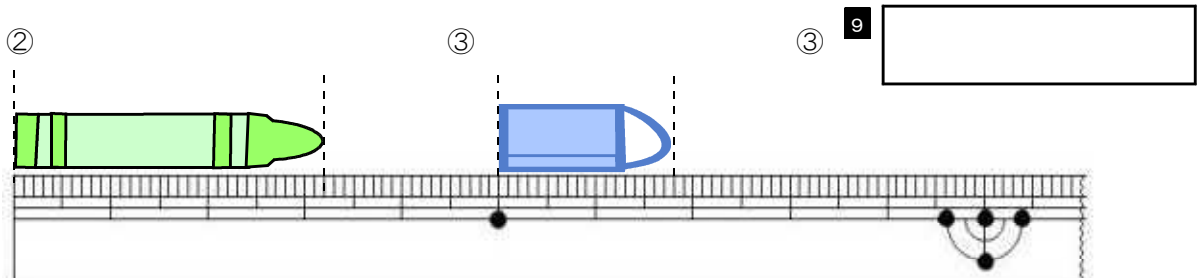
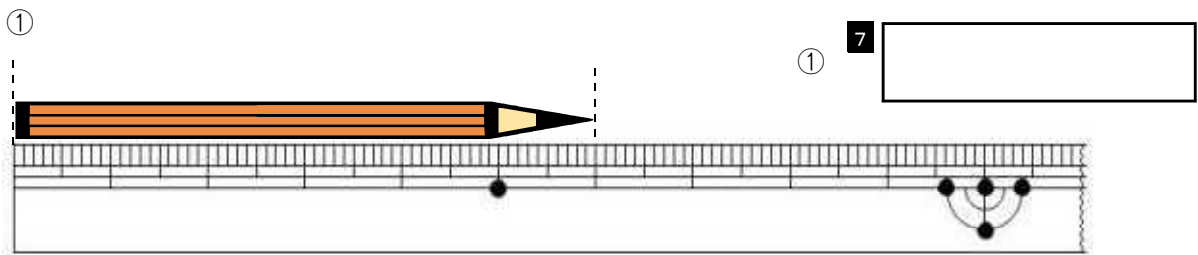
2 つぎのもんだいに答えましょう。

(1) にあてはまる長さのたんいを書きましょう。

①はさみの長さ 15 5

②ノートのあつさ 5 6

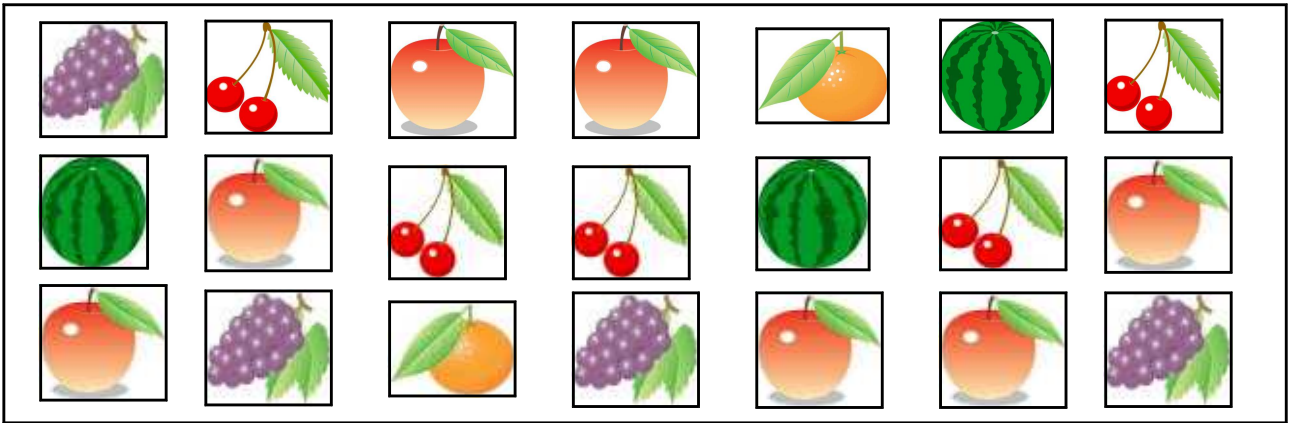
(2) ①から③のものの長さは、どれだけでしょう。



※つぎのページにも、もんだいがあります。

3

下のような絵があります。つぎのもんだいに答えましょう。



(1) くだものの絵の数をしらべて、ひょうにかきましょう。

(くだものの絵)

| くだもの | りんご | さくらんぼ | ぶどう | すいか | みかん |
|-------------|-----|-------|-----|-----|-----|
| 絵の数 (まい) | 10 | 5 | 11 | 12 | 2 |

(2) くだものの絵の数を、○をつかってグラフにあらわしましょう。

(くだものの絵)

| | | | | |
|-----|-------|-----|-----|-----|
| | | | | |
| | | | | |
| | | | | |
| | ○ | | | |
| | ○ | | | |
| | ○ | | ○ | |
| | ○ | | ○ | ○ |
| | ○ | | ○ | ○ |
| りんご | さくらんぼ | ぶどう | すいか | みかん |

13

14

(3) りんごの絵とぶどうの絵では、どちらが何まい少ないですか。

15

こたえ

の絵が 1まい少ない。

15問中