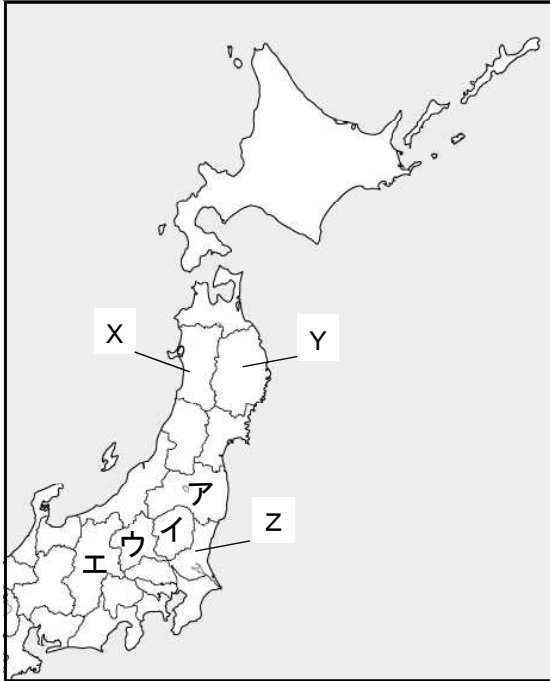


平成27年度 1 学期末問題（第2回）
 ほっかいどうチャレンジテスト 社会小5 組 番 氏名

★先生方へ～解答欄の 1 ～ 9 は、問題結果登録の設問番号に対応しています。

1 次の問題に答えましょう。

〔略地図〕



(1) 略地図中のX・Y・Zの県の名前を書きましょう。

X 1 県

Y 2 県

Z 3 県

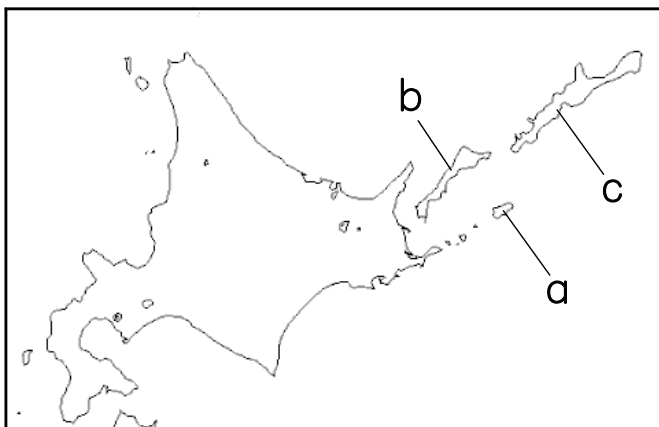
(2) 次の県は、どこに位置していますか。略地図中のア～エから選んで記号で書きましょう。

群馬県

4

2 次の略地図を見て、北方領土を説明した文章の a ～ c に当てはまることばを書きましょう。

〔略地図〕



【北方領土についての説明】

わが国固有の領土である北方領土は、歯舞群島、a 島、b 島、c 島からなっています。わが国の政府は、ロシア連邦政府に対して返還を求めています。

5
a

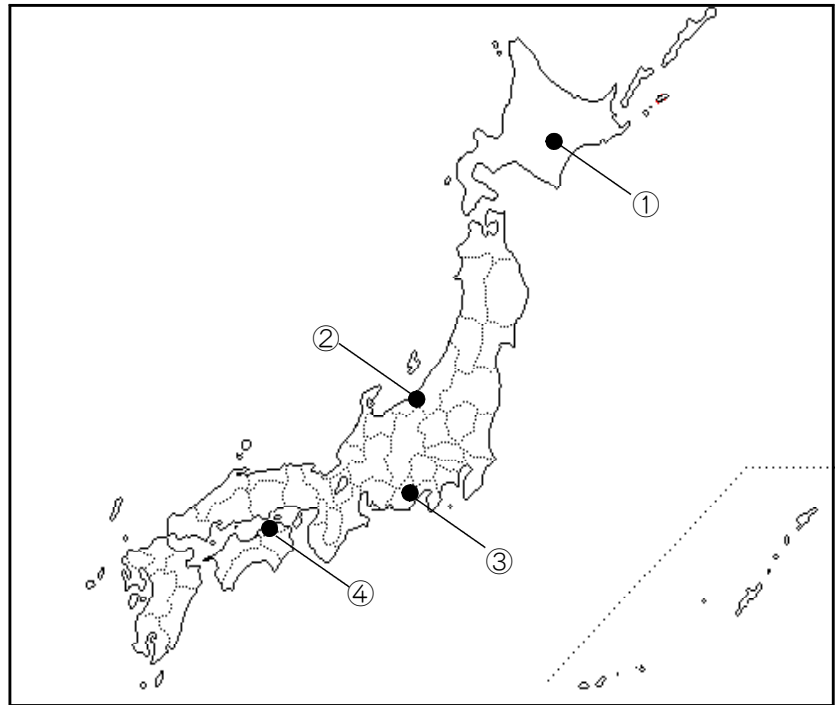
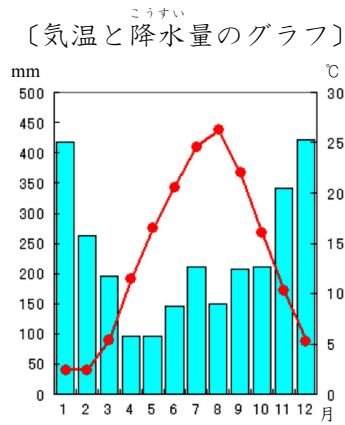
6
b

7
c

3

地図を見て、問題に答えましょう。

(1) 下の気温と降水量のグラフに当てはまる都市を、地図中の①～④から一つ選び、選んだ理由を「季節風」という語句を使って説明しましょう。



8
都市

理由

(完全解答)

(2) 下の文中の () にあてはまる語句を書きましょう。

6月から7月にかけて、主に北海道以外の地域では雨雲におおわれ、いく日も雨がふり続きます。これを () と言います。

9

9 問中