

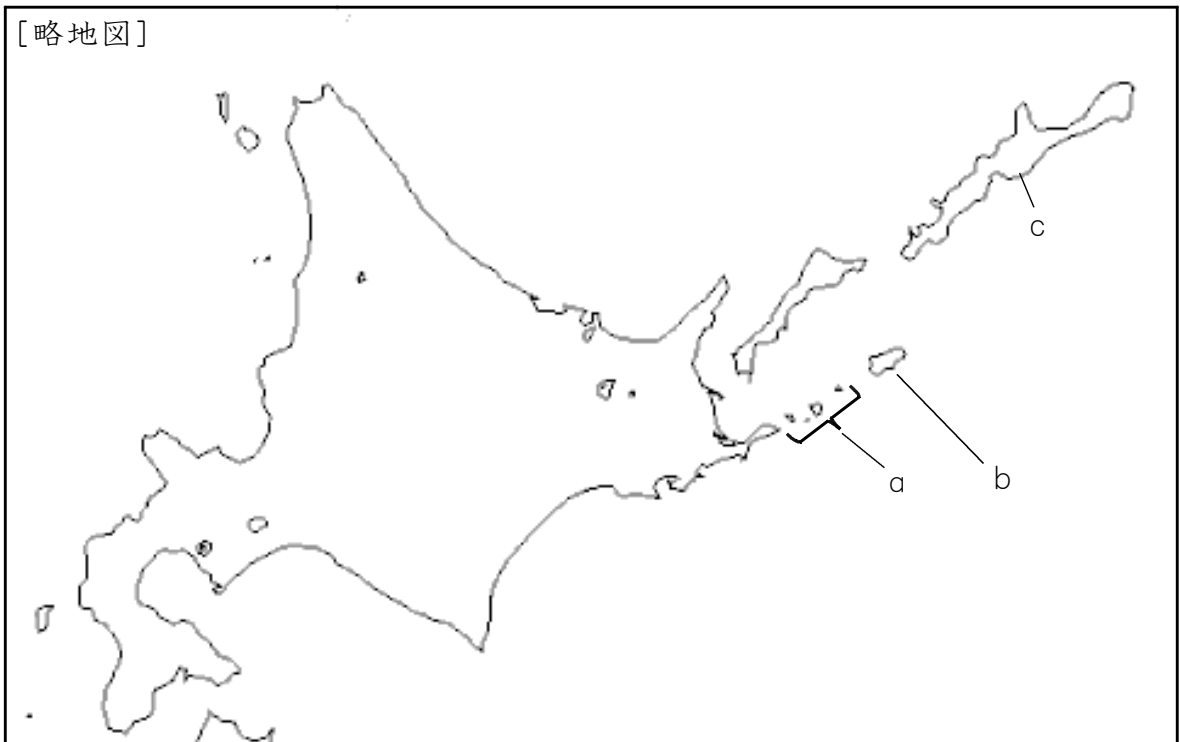
平成27年度 1 学期末問題 (第2回)  
ほっかいどうチャレンジテスト 社会中1 組 番 氏名

★先生方へ～解答欄の 1 ～10 は、問題結果登録の設問番号に対応しています。

1

次の文の a～d のそれぞれに当てはまることばを書きなさい。なお、文中の a～c は、略地図中の a～c のことです。

我が国固有の領土である a 群島、b 島、<sup>くなしり</sup>国後島、  
c 島の島々を d <sup>へんかん</sup>とといいます。我が国の政府は、ロシア連邦政府に対して d の返還を求めています。



1 a

2 b

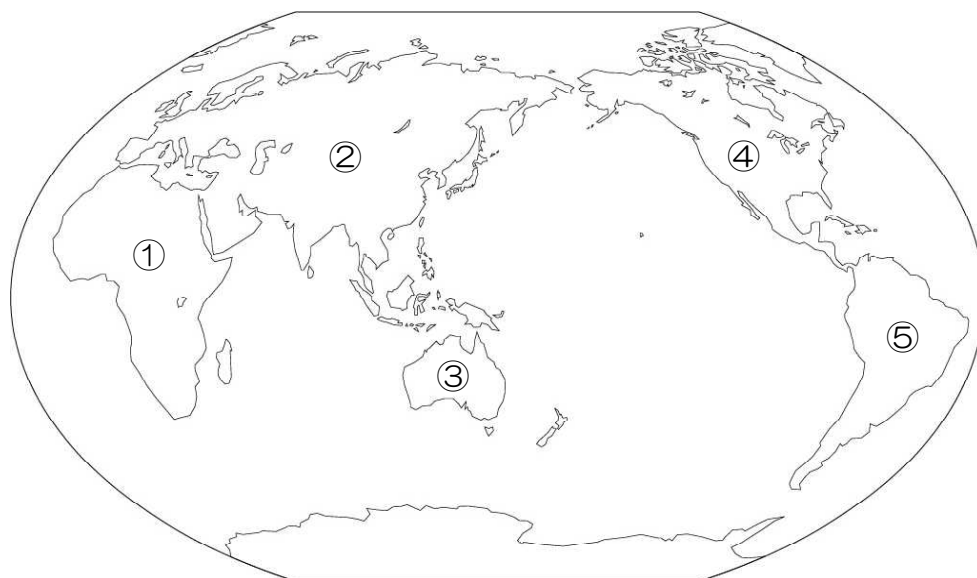
3 c

4 d

2

次の問題に答えましょう。

次の地図中の①～⑤の大陸の中から、三つの大洋に面している大陸を一つ選び、記号で書きなさい。また、その大陸名を書きなさい。


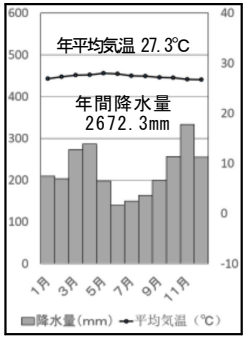

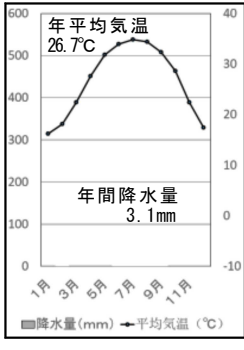


<sup>5</sup>  
記号

<sup>6</sup>  
大陸名

3

まことさんは、下の資料Aと資料Bの住居の写真と、気温と降水量のグラフを見比べて、気が付いたことをノートにまとめています。【まことさんのノート】の①～③に入る言葉を                      の中から選び、記号で書きなさい。

資料A		
資料B		

【まことさんのノート】

《AとBを比べて考えたこと》		
	資料A	資料B
グラフから分かること	<ul style="list-style-type: none"> <li>・ <span style="border: 1px solid black; padding: 2px;">①</span> が多い。</li> <li>・ 一年を通して、気温が高い。</li> </ul>	<ul style="list-style-type: none"> <li>・ <span style="border: 1px solid black; padding: 2px;">①</span> がほとんどない。</li> <li>・ 夏と冬で寒暖の差がある。</li> </ul>
住居の写真から分かること	<ul style="list-style-type: none"> <li>・ 住居は木の幹や枝葉を用いて作られ、暑さや湿気を避けるため、<span style="border: 1px solid black; padding: 2px;">②</span> となっている。</li> </ul>	<ul style="list-style-type: none"> <li>・ 住居は日干しレンガで作られ、窓は小さく少ない。</li> <li>・ 周囲に植物がほとんどない。</li> </ul>
<p>◎ 住居は、それぞれの地域の <span style="border: 1px solid black; padding: 2px;">③</span> や土地の様子と深い関係がある。</p>		

- |       |       |
|-------|-------|
| ア 緯度  | イ 高床式 |
| ウ 降水量 | エ 人口  |
| オ 気温  | カ 気候  |

7

①

8

②

9

③

