


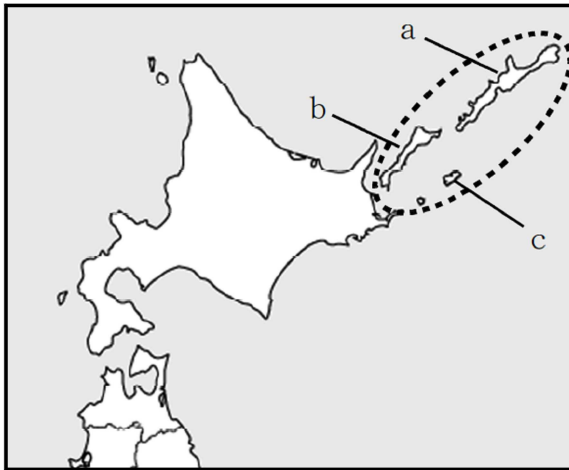
平成27年度 学年末問題（第8回）
ほっかいどうチャレンジテスト 社会小6 組 番 氏名

★先生方へ～解答欄の 1 ～ 10 は、問題結果登録の設問番号に対応しています。

1 略地図の  で囲まれた島々について述べた次の文の ① に当てはまる言葉を、漢字2字で答えましょう。
 また、下線部1～3の島の位置を、略地図のa～cからそれぞれ選んだときの組合せとして正しいものを、ア～エから選び②に記号を書きなさい。

はばまいぐんとう しこたんとう くなしりとう えとろふとう
 歯舞群島、1色丹島、2国後島、3択捉島からなる ① 領土は日本固有の
 しんようじゅりん いき げん
 領土であり、針葉樹林が広がり、周辺の海域は、水産資源が豊富である。

〔略地図〕



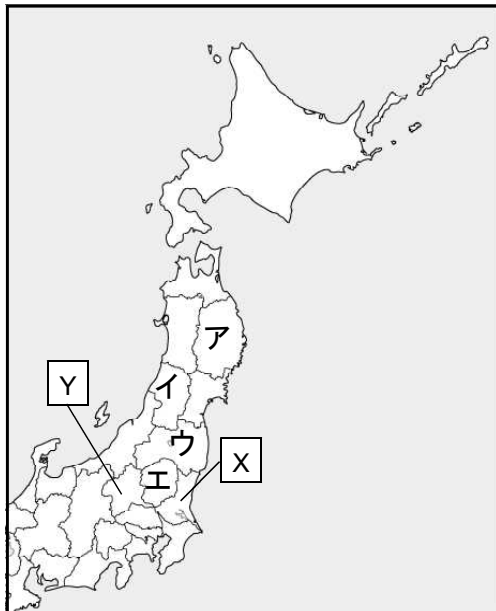
① 領土

- | | |
|---|-------------------|
| ア | 1 - a、2 - b、3 - c |
| イ | 1 - c、2 - a、3 - b |
| ウ | 1 - a、2 - c、3 - b |
| エ | 1 - c、2 - b、3 - a |

② 記号…

2 次の問題に答えましょう。

〔略地図〕



(1) 略地図中のX、Yの県の名前を書きましょう。

X 県

Y 県

(2) 次の県の位置を略地図中のア～エの中から選んで記号で書きましょう。

福島県

3

太郎さんは、昭和時代の15年にわたる戦争について、年表にまとめました。次の問題に答えましょう。

年	主なできごと
1931	・満州事変が起こる。
1932	・満州国ができる。
1933	・国際連盟から脱退する。
1937	・(①) 戦争が始まる。
1938	・国民全員を総動員する法律ができる。
1939	・第二次世界大戦が始まる。
1941	・(②) 戦争が始まる。
1942	・衣料が配給制になる。
1944	・疎開が始まる。
1945	・アメリカ軍が(③) に上陸する。 ・原子爆弾が投下される。

(1) ①～③に入る言葉の正しい組合せを、ア～エから選びましょう

ア ①日中 ②日米 ③沖繩

イ ①太平洋 ②日中 ③広島

ウ ①日中 ②太平洋 ③沖繩

エ ①太平洋 ②日中 ③沖繩

6

(2) 太郎さんは、第二次世界大戦中の人々のくらしをまとめようと思いましたが、どのようなことに着目してまとめるとよいでしょうか。年表中の言葉を使ってまとめましょう。

7

4

しょう子さんは、日本国憲法の原則とわたしたちのくらしとの関わりについて調べたことをまとめました。①～③に入る言葉を下のア～ウから選びましょう。

【しょう子さんのノート】

日本国憲法の原則	わたしたちのくらしとの関わり
(①)	非核三原則をかげ、ただ一つの被爆国として、被爆体験を語りつぐ活動を行っている。
(②)	車いすの人でも利用しやすいよう、駅の改札口のはばが広く整備されている。
(③)	20才以上のすべての人が、選挙権をもち、選挙で投票することができる。

ア 基本的な人権の尊重 イ 国民の権利 ウ 平和主義

8

①

9

②

10

③

10 問中