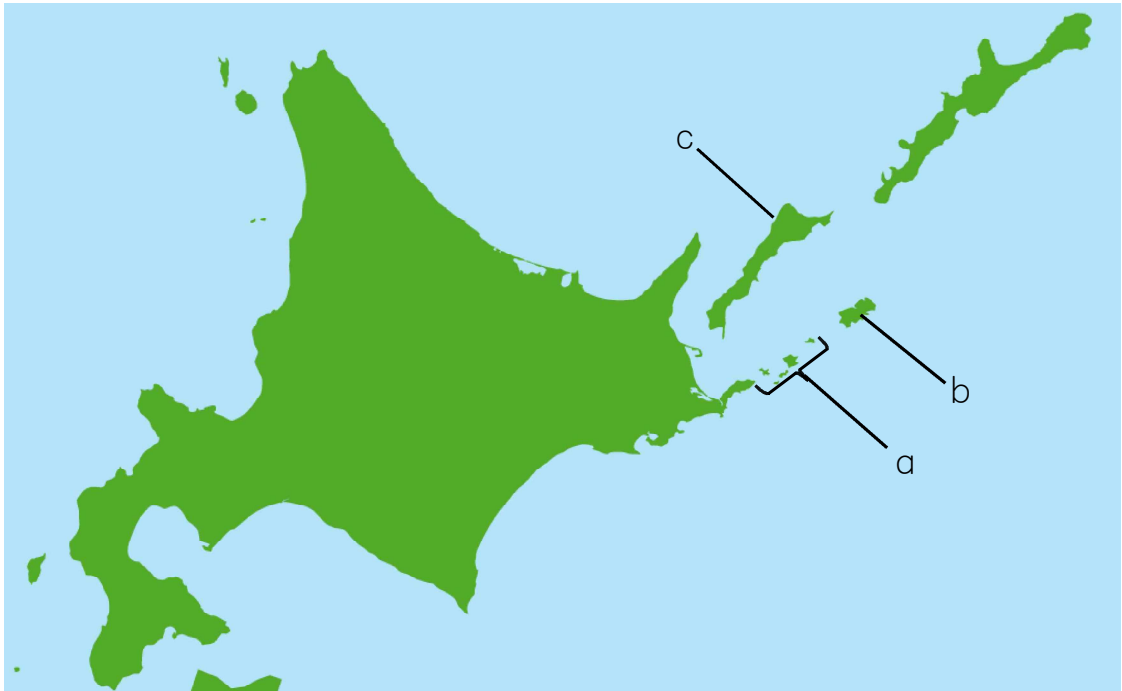


平成27年度 学年末問題（第8回）
ほっかいどうチャレンジテスト 社会中2 組 番 氏名

★先生方へ～解答欄の 1 ～10 は、問題結果登録の設問番号に対応しています。

1 我が国は、1956年に日ソ共同宣言に調印して、ソビエト連邦との国交を回復した。しかし、日ソ間の領土問題は解決しなかった。日ソ間の領土問題は、ソ連からロシア連邦に引き継がれたが、現在も未解決である。我が国の政府が、ロシア連邦政府に対して返還を求めている、我が国固有の領土である北方領土は、 群島、 島、 島、択捉島からなっている。

〔略地図〕



(1) ～ のそれぞれに当てはまる語句を書きなさい。

- a 群島
- b 島
- c 島

2

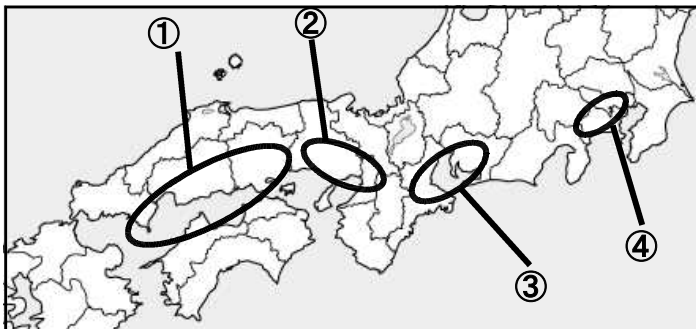
豊さんは、これまで地理で学習した内容から、日本の工業についてレポートにまとめました。このレポートを読んで、(1)、(2)の問いに答えなさい。
 <豊さんのレポート>

日本は世界の中でも工業がさかんな国です。
 日本で早くから工業が発達していたのは、京けい・浜ひん・中ちゅう京きやう・阪はん神しん・北きた九きゅう州しゅうなどの工業地帯です。
 工業原料の多くを輸入にたよる日本では、第二次世界大戦後、東京湾、伊勢湾、大阪湾、瀬戸内海などの臨海部に、鉄鋼や石油化学などの工場が立ち並び、
 a と呼ばれる臨海型の工業地域が形成されました。
 1970年代以降は、内陸型の新しい工業地域が、東京や大阪などの大都市圏の周辺や、東北地方や九州地方などに形成されるようになりました。
 日本の各地方の工業には様々な特色があり、例えば、愛知県は自動車の生産台数が多く、岡山県の沿岸部には石油化学コンビナートや製鉄所が多く集まっています。

(1) 文中の a に当てはまる語句を書きなさい。 4

(2) 中京工業地帯の位置を示しているものを、下の略地図の①～④から一つ選び、記号で答えなさい。また、中京工業地帯の製造品出荷額に該当するものを下の表のA～Dから1つ選び、記号で書きなさい。

【略地図】



5

| |
|--------|
| 場所 |
| 製造品出荷額 |

<完全解答>

【表 京浜、中京、阪神工業地帯と瀬戸内工業地域の製造品出荷額等及び製造品出荷額等の構成(平成22年)】

| | 製造品出荷額 (単位 億円) | 金属 | 機械 | 化学 | 食料品 | せんい | その他 |
|---|-------------------|-------|-------|-------|-------|------|-------|
| A | 481,440 | 10.2% | 65.7% | 6.1% | 5.3% | 1.0% | 11.7% |
| B | 292,784 | 19.4% | 33.8% | 24.9% | 7.2% | 2.1% | 12.6% |
| C | 301,386 | 20.4% | 36.6% | 17.1% | 10.3% | 1.5% | 14.1% |
| D | 257,710 | 9.2% | 46.2% | 18.5% | 10.1% | 0.5% | 15.5% |

(「日本国勢図会2013/2014」から作成)

3

真希さんは、これまで学んだ日本の諸地域の学習内容について、レポートにまとめました。このレポートを読んで、(1)～(3)の問いに答えなさい。

〈真希さんのレポート〉

まとめ（九州地方から中部地方まで）※一部抜粋

☆ は、主な山地です。

① a
 ② b
 ③ c
 ④ d

☆ の地域では、谷が海に沈み、のこぎりの歯のように、複雑な海岸線となっている地形である e が見られます。

☆左の地図で示した地域は、5つの気候区分があります。

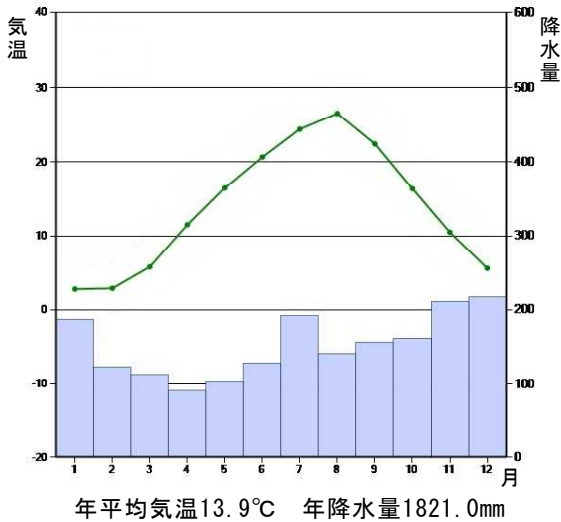
(1) ①～④に当てはまる山地の名前の組合せとして、正しいものを、次のア～エから1つ選び記号で答えなさい。

6

- | | | | | |
|---|--------|--------|--------|--------|
| ア | ① 九州山地 | ② 冠山山地 | ③ 讃岐山地 | ④ 鈴鹿山地 |
| イ | ① 九州山地 | ② 中国山地 | ③ 四国山地 | ④ 紀伊山地 |
| ウ | ① 筑紫山地 | ② 冠山山地 | ③ 四国山地 | ④ 鈴鹿山地 |
| エ | ① 筑紫山地 | ② 中国山地 | ③ 讃岐山地 | ④ 紀伊山地 |

(2) eに当てはまる言葉を答えなさい。

7



(3) 真希さんは、地図に示した5つの都市の気温と降水量を示したグラフを、レポートに貼り付けようと考えました。左のグラフに当てはまる都市の名前を5つの都市から選んで答えなさい。
 (グラフは気象庁のデータを基に作成)

8

4

次の年表を見て、(1)、(2)の問いに答えなさい。

【年表】

| 年代 | できごと |
|------|-----------------------------|
| 1642 | ピューリタン革命(～1649) A |
| 1688 | 名誉革命 |
| 1776 | 独立宣言 B |
| 1789 | 人権宣言 C |
| 1840 | アヘン戦争(～1842) |
| 1851 | 太平天国の乱(運動)(～1864) |
| 1857 | インド大反乱(～1859) |
| 1861 | 南北戦争(～1865) |

※ピューリタン革命については、1640～1660年とする説もあります。

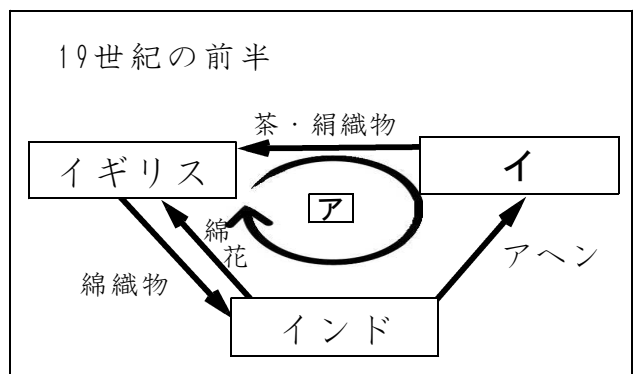
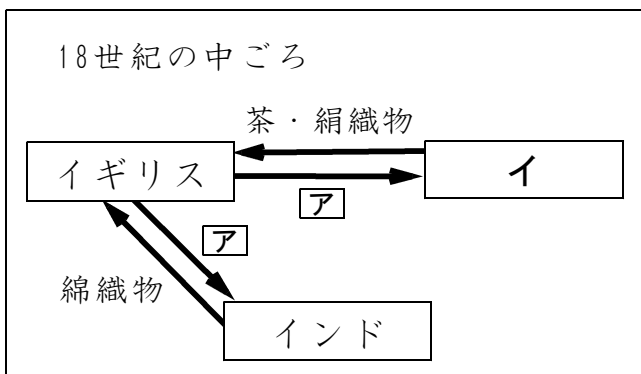
(1) 年表中のA～Cのできごとが起こった国の名前の組合せとして、正しいものを、次のア～エから1つ選び記号で答えなさい。

9

- | | | | | | | | |
|---|---|---|------|---|------|---|------|
| { | ア | A | フランス | B | アメリカ | C | イギリス |
| | イ | A | フランス | B | ドイツ | C | アメリカ |
| | ウ | A | イギリス | B | アメリカ | C | フランス |
| | エ | A | イギリス | B | フランス | C | ドイツ |

(2) 浩太さんは、アヘン戦争とインド大反乱について学習した後に、イギリスの18世紀の中ごろと19世紀の前半の貿易について、図にまとめました。アに当てはまる語句、イに当てはまる国の名前をそれぞれ答えなさい。

【浩太さんの書いた図】



10

| | |
|---|---|
| ア | イ |
| | |

〈完全解答〉

10問中