

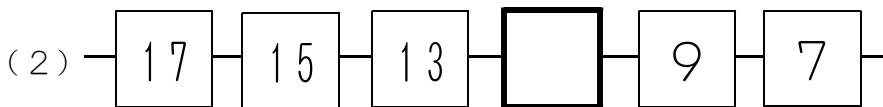
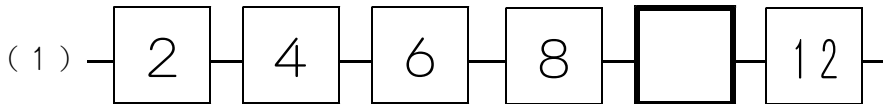
1 つぎの けいさんを しましょう。

(1)  $14 - 3$

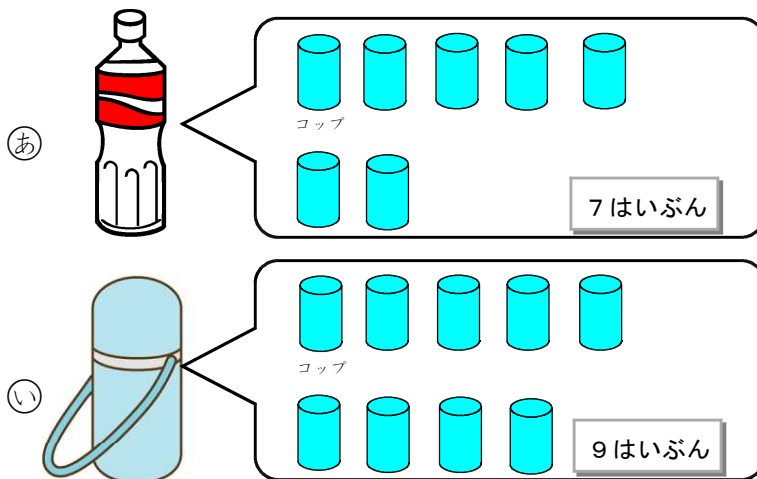
(2)  $12 - 9$


(3)  $12 + 6 - 3$

2  に あてはまる かずを かきましょう。



3 ㉠と㉡の いれものには、つぎの とおり、のみものが はいっていま  
した。  
㉠と㉡をくらべて、どちらが どれだけ おおく はいるか かきまし  
よう。



\_\_\_\_\_ の ほうが  \_\_\_\_\_ はいぶん おおく はいる。