

著作権の関係上、一部の問題を掲載しています。

めあて 学習した 漢字を 読んだり 書いたり できる ように しよう。

三 つぎの —— 線部の 漢字の 正しい読み方を、ひらがなで 書きましょう。

1 日曜日 の朝。

2 先生に 話す。

3 前に すすむ。

4 雪が ふる。

5 こうえんを 歩く。

四 つぎの —— 線部の カタカナを、漢字で ていねいに 書きましょう。

1 チカラを あわせる。

2 ソラを みあげる。

3 タケを わる。

4 ミズを くむ。

5 ハヤシに 入る。

■ 答え

- 三 1 にちようび 2 はな(す) 3 まえ 4 ゆき 5 ある(く)
- 四 1 カ 2 空 3 竹 4 水 5 林

取り組んでみよう!

■ つぎの 線部の カタカナを、漢字で ていねいに 書きましょう。

1 ツキの ひかり。

3 クルマに のる。

2 アオい ふく。

4 モリの なか。

答え

華 車 車 車 車 車 車

〔算数〕 小2 組 番号前

10問中

1

つぎの計算をひっ算でしましょう。

(1) $35 - 12$

(2) $52 - 35$

(3) $60 - 24$

(4) $55 - 9$

2

つぎのひっ算で正しいものをすべてえらび、ばんごうをかきましょう。

①

$$\begin{array}{r} 65 \\ -17 \\ \hline 58 \end{array}$$

②

$$\begin{array}{r} 65 \\ -25 \\ \hline 40 \end{array}$$

③

$$\begin{array}{r} 43 \\ -17 \\ \hline 26 \end{array}$$

④

$$\begin{array}{r} 43 \\ -20 \\ \hline 27 \end{array}$$

3

17 + 24のしきになるもんだいをつくりましょう。
 (しき、こたえはかかなくてもいいです。)

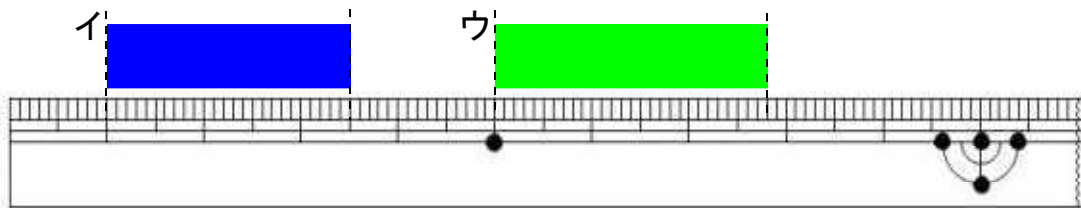
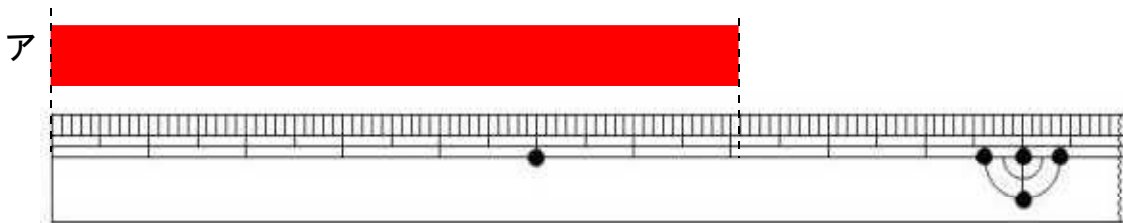
※つぎのページにも、もんだいがあります。

4 つぎの にあてはまる数をかきましょう。

$$75 \text{ mm} = \text{ } \text{ cm } \text{ } \text{ mm}$$

(りょう方できて○が1つつきます。)

5 アからウのテープの長さ^{なが}は、それぞれ何^{なん} cm 何^{なん} mm でしょう。



ア イ ウ

〔算数〕 小2 組 番号 名前

1

(1)

$$\begin{array}{r} 3 \\ - 1 \\ \hline 2 \end{array}$$

(2)

$$\begin{array}{r} 4 \\ \cancel{5} \\ - 3 \\ \hline 1 \end{array}$$

(3)

$$\begin{array}{r} 5 \\ \cancel{5} \\ - 2 \\ \hline 3 \end{array}$$

(4)

$$\begin{array}{r} 4 \\ \cancel{5} \\ - \\ \hline 4 \end{array}$$

- ① 一のくらの計算をします。
0から4はひけないので、十のくらから1くり下げて
 $10 - 4 = 6$
- ② 十のくらの計算をします。
 $5 - 2 = 3$

2

②、③

①は、十のくらの計算(けいさん)で、くり下がりの1を
考えずに計算しているのでまちがいです。
④は、一のくらの計算(けいさん)で、 $10 - 3 = 7$ と計算
しているのでまちがいです。

3

(れい1)
2年1くみには、男子が17人、女子が24人います。
2年1くみのじどうは、みんなでなんですか。

(れい2)
あめを17こもっています。24こもらいました。
あめは、ぜんぶでなんこですか。

4

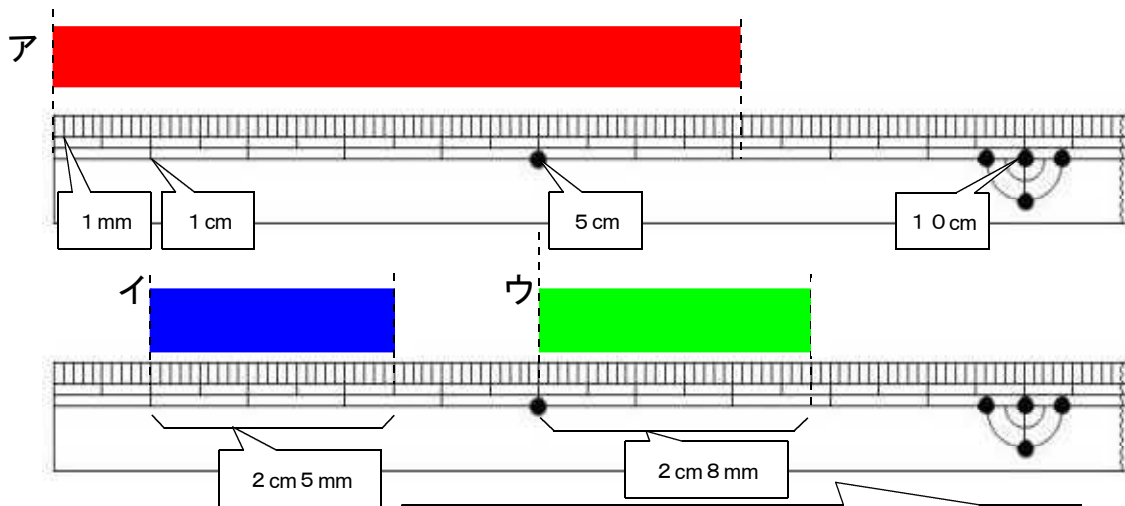
75mm = cm mm

1cmは10mmです。

(りょう方できて○が1つつきます。)

5

ア イ ウ



ものさしのめもりを正しく読めるようにしましょう。