

めあて 学習した 漢字を 読んだり 書いたり できる ように しよう。

三 つぎの 線部の  
読み方を、ひらがなで

漢字の 正しい  
書きましよう。

四 つぎの 線部の  
ていねいに 書きましよう。

カタカナを、漢字で

1 日曜日の朝。

\_\_\_\_\_

1 チカラをあわせる。

\_\_\_\_\_

2 先生に話す。

\_\_\_\_\_

2 ソラを見上げる。

\_\_\_\_\_

3 前にすすむ。

\_\_\_\_\_

3 タケをわる。

\_\_\_\_\_

4 雪がふる。

\_\_\_\_\_

4 ミズをくむ。

\_\_\_\_\_

5 黄色のはた。

\_\_\_\_\_

5 ハヤシに入る。

\_\_\_\_\_

■ 答え

三 1 にちようび 2 はな(す) 3 まえ 4 ゆき 5 きいろ

四 1 カ 2 空 3 竹 4 水 5 林

取り組んでみよう!

■ つぎの ——— 線部の カタカナを、漢字で ていねいに 書きましよう。

1 ツキの ひかり。

2 アオい ふく。

3 クルマに のる。

4 モリの なか。

答え

ツキ 車 空 鼻 目

1

つぎの計算をひっ算でしましょう。

(1)  $64 - 12$

(2)  $36 - 16$

(3)  $82 - 50$

(4)  $70 - 33$

2

つぎのひっ算で正しいものをすべてえらび、ばんごうをかきましょう。

①

$$\begin{array}{r} 47 \\ -28 \\ \hline 19 \end{array}$$

②

$$\begin{array}{r} 52 \\ -16 \\ \hline 46 \end{array}$$

③

$$\begin{array}{r} 83 \\ -45 \\ \hline 38 \end{array}$$

④

$$\begin{array}{r} 43 \\ -20 \\ \hline 27 \end{array}$$




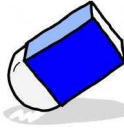

3

15 + 32のしきになるもんだいをつくりましょう。  
(しき、こたえはかかなくてもいいです。)

※つぎのページにももんだいがあります。

4

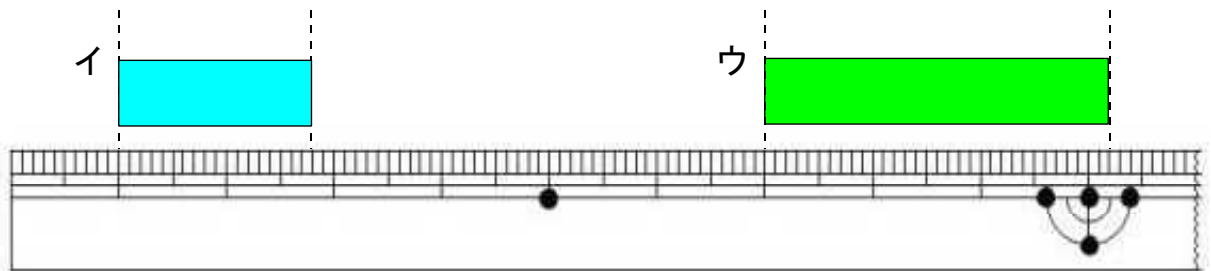
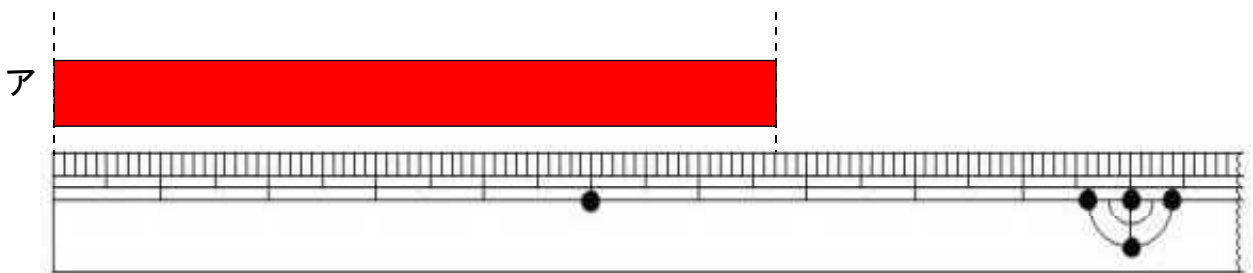
ぶんぼうぐの数<sup>かず</sup>をあらわしたグラフがあります。  
えんぴつとけしごおでは、どちらが何<sup>なん</sup>こ<sup>おお</sup>多いですか。

	○			
	○			
	○			
	○		○	
	○	○	○	
○	○	○	○	
○	○	○	○	○
				
はさみ	えんぴつ	じょうぎ	けしごお	ノート

こたえ  が  こ<sup>おお</sup>多い。

5

アからウのテープの長さ<sup>なが</sup>は、それぞれ何<sup>なん</sup> c m 何<sup>なん</sup> m m でしょう。



ア  イ  ウ

〔算数〕 小2 組 番号

1 (1)

$$\begin{array}{r} 64 \\ - 12 \\ \hline 52 \end{array}$$

(2)

$$\begin{array}{r} 36 \\ - 16 \\ \hline 20 \end{array}$$

(3)

$$\begin{array}{r} 82 \\ - 50 \\ \hline 32 \end{array}$$

(4)

$$\begin{array}{r} 60 \\ \cancel{7} \quad 0 \\ - 33 \\ \hline 37 \end{array}$$

- ① 一のくらの計算 (けいさん) をします。  
0から3はひけないので、十のくらいから1くり下げて  
 $10 - 3 = 7$
- ② 十のくらの計算 (けいさん) をします。  
 $6 - 3 = 3$

2

①、③

- ②は、十のくらの計算 (けいさん) で、くり下がりの1を考慮せずに計算しているのでまちがいです。
- ④は、一のくらの計算 (けいさん) で、 $10 - 3 = 7$ と計算しているのでまちがいです。

3

(れい1)

15円のおめと32円のカステラをかいます。  
だいはいくらになりますか。

(れい2)

いろがみを15まいもっています。あとから32まいかいました。  
いろがみは、ぜんぶで何まいになりましたか。

4

えんぴつ が 3 こ多い。

5

ア

6 cm 7 mm

イ

1 cm 8 mm

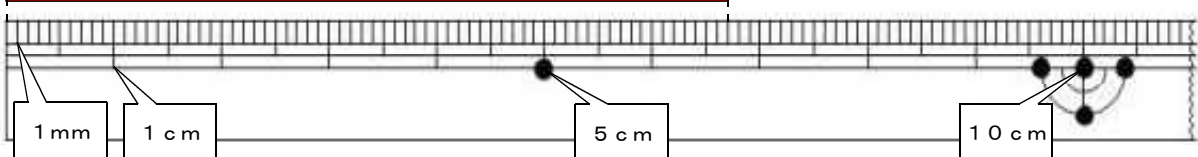
ウ

3 cm 2 mm

ア



ものさしのめもりを正しく読めるようにしましょう。



イ



ウ



1 cm 8 mm

3 cm 2 mm