

★先生方へ～解答欄の 1 ～ 10 は、問題結果登録の設問番号に対応しています。

1 つぎのもんだいに^{こた}えましょう。

(1) みほさんのクラスには、本がぜんぶで38さつあります。
今、14さつの^こっています。
かし出し中の本は、何^{なん}さつですか。



1 しき

2 こたえ

(2) $32 + 88$ のしきになるもんだいをつくりましょう。
(しき、こたえはかかなくてもいいです。)

3

2 つぎのひっ^{さん}算で正しいものをすべてえらび、ばんごうをかきましょう。

①
$$\begin{array}{r} 65 \\ - 25 \\ \hline 40 \end{array}$$

②
$$\begin{array}{r} 65 \\ - 17 \\ \hline 58 \end{array}$$

③
$$\begin{array}{r} 43 \\ - 20 \\ \hline 27 \end{array}$$

④
$$\begin{array}{r} 43 \\ - 17 \\ \hline 26 \end{array}$$

4

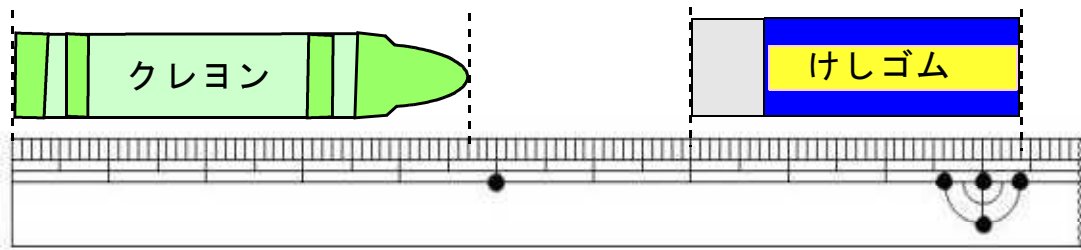
3 つぎの にあてはまる数をかきましょう。

5 $5\text{ cm } 5\text{ mm} = \text{ mm}$

※つぎのページにも、もんだいがあります。

4

クレヨン、けしゴムの長さは、それぞれ何c m何m mでしょう。




クレヨン ⁶

けしゴム ⁷






5

下のような絵があります。つぎのもんだいに答えましょう。



(1) の中のやさいの絵の数を、○をつかってグラフにあらわしましょう。

(やさいの絵)

	○			
	○	○		
	○	○		
	○	○		
	○	○		○
	○	○		○
⁸ なす	とうもろこし	とまと	⁹ にんじん	かぼちゃ
				

(2) かぼちゃの絵ととうもろこしの絵では、どちらが何まい多いですか。

こたえ ¹⁰ の絵が まい多い。

〔算数〕 小2 組 番号

★先生方へ～解答欄の 1 ～ 10 は、問題結果登録の設問番号に対応しています。

1 (1) しき $38 - 14$ 答え 24 さつ

2 (2) (れい)
32円のおめと88円のドーナツを1つずつ買います。
あわせて何円になりますか。

3 ①、④
②は、十のくらの計算 (けいさん) で、くり下がりの1を考えずに計算しているのでまちがいです。
③は、一のくらの計算 (けいさん) で、 $10 - 3 = 7$ と計算しているのでまちがいです。

4 55 mm 1cmは10mmです。

5 クレヨン 4 cm 7 mm けしゴム 3 cm 4 mm

6 (1)

(やさいの絵)

○				
○	○			
○	○	○		
○	○	○	○	
○	○	○	○	
○	○	○	○	○
○	○	○	○	○
8 なす	とうもろこし	とまと	9 にんじん	かぼちゃ

(2) 答え とうもろこしの絵が 4 まい多い。