

※著作権の関係上、一部の問題を掲載しています。

平成三十年度 ほっかいどうチャレンジテスト

二期サポート問題 (第五回) 国語 小二

組 番 名 前

もん
10問中

めあて 学しゆうした漢字を讀んだり書いたりできるようにしよう。

二 次 の 線 部 の 漢 字 の 正 し い 読 み 方
を、ひらがなでていねいに書きましよう。

1 戸をしめる。

2 細かく切る。

3 読書をする。

4 みちを教える。

5 半分にする。

三 次 の 線 部 の カ タ カ ナ を、漢字で
ていねいに書きましよう。

1 オウさまにあう。

2 チイさく切る。

3 にわにクサがはえる。

4 ミミをすまして聞く。

5 ハヤくおきる。

■こたえ

- 二 1 と 2 こま(かく) 3 どくしよ 4 おし(える) 5 はんぶん
- 三 1 王 2 小(さく) 3 草 4 耳 5 早(く)

とりくんでみよう!

■ 次の——線部のカタカナを、漢字でていねいに書きましょう。

1 タケ|でできたかご。

┌

└

3 アオ|いふく。

┌

└

2 モリ|の中。

┌

└

4 エン|をかく。

┌

└

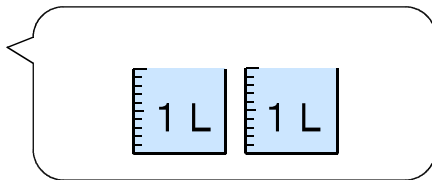
答え

田 ヲ 鳥 3 糞 2 竹 1

1

下の水とうとポットに入る水のかさを、ア、イのあらわし方で書きましょう。

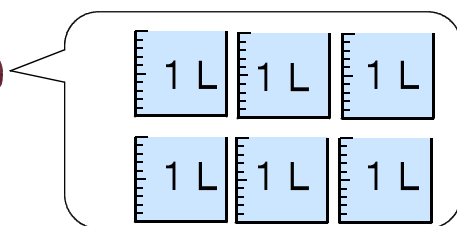
(1) 水とう



ア L

イ mL

(2) ポット



ア L

イ mL

2

すずさんは、 $62 + 39$ の計算をつぎのようにひっ算しました。
まいこさんは、すずさんの計算のまちがいを下のようにせつめいしています。

すずさんのひっ算

$$\begin{array}{r} 62 \\ + 39 \\ \hline 91 \end{array}$$

一のくらの計算は、 $2 + 9$ で11です。
すずさんは、十のくらの計算を1くり上げ
ずに計算し、
 $6 + 3 = 9$
になっているのでまちがいです。



まいこさん

まいこさんのせつめいのように、つぎのしょうたさんの計算のまちがいをせつめいし、正しい答えになおしましょう。
せつめい

しょうたさんのひっ算

$$\begin{array}{r} 84 \\ + 58 \\ \hline 132 \end{array}$$

正しい答え

3

学校を出てから、家につくまでの時間は、何分間でしょうか。



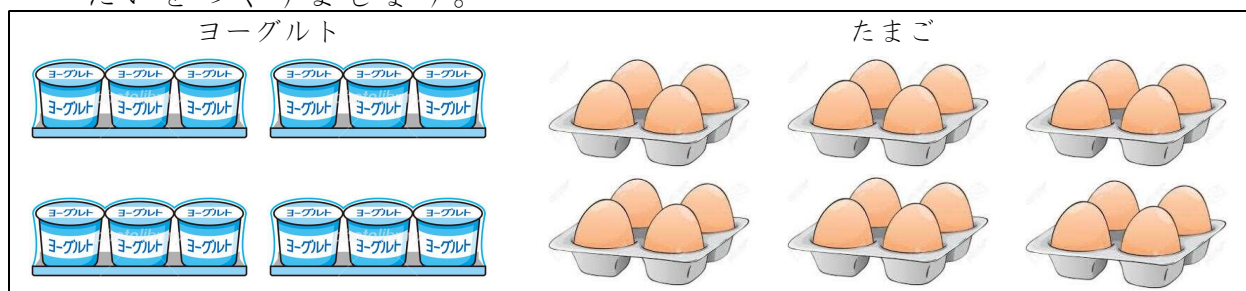
学校を出た時こく



家につく時こく

※つぎのページにも、もんだいがあります。

4 下の絵（ヨーグルト、たまご）のうち1つをえらんで、かけ算の몬드いをつくりましょう。



몬드い

5 つぎの몬드いに^{こた}答えましょう。

(1) 下の①から④までの中から正しいものをすべてえらび、ばんごうを書きましよう。

- ① $607 > 602$ ② $730 > 732$
 ③ $598 > 589$ ④ $96 < 104$

(2) 下の2つの3けたの数の大きさをくらべます。

$3 \square 4$ 362

上の3けたの数 $3 \square 4$ の十のくらいには、まだ^{すうじ}数字^{はい}が入っていません。
 $3 \square 4$ が 362 よりも大きい数になるとき、 \square には、どのような数があてはまりますか。

0から9までの中で、あてはまる数をすべて^か書きましよう。

〔算数〕 小2 組 番号 名前

1 (1) 水とう

1 L = 1000 mL

ア L

イ mL

(2) ポット

ア L

イ mL

2 せつめい

(れい)

一のくらの計算は、 $4 + 8$ で12です。
 しょうたさんは、十のくらの計算を
 1くり上げずに計算し、
 $8 + 5 = 13$
 になっているのでまちがいです。

正しい答え

3

ながいはりが1めもりすすむ時間は1分です。
 学校を出た時こくは2時30分で、家についた時
 こくは2時50分なので、かかった時間は20分間
 です。

4

もんだい

(れい)

ヨーグルトが、1パックに3こずつ入っています。4パックか
 うと、ぜんぶでなんこになりますか。

何(こ)のいくつ分かを考えて、も
 んだいをつくりましょう。たまごをつ
 かって、 4×6 のもんだいをつくるこ
 ともできます。

5

(1)

(2)

【考え方】

$3 \square 4 > 362$

- ・□の中に0 ⇒ 304 (362より小さい)
- ・□の中に1 ⇒ 314 (362より小さい)
- ・□の中に2 ⇒ 324 (362より小さい)
- ・□の中に3 ⇒ 334 (362より小さい)
- ・□の中に4 ⇒ 344 (362より小さい)
- ・□の中に5 ⇒ 354 (362より小さい)
- ・□の中に6 ⇒ 364 (362より大きい)
- ・□の中に7 ⇒ 374 (362より大きい)
- ・□の中に8 ⇒ 384 (362より大きい)
- ・□の中に9 ⇒ 394 (362より大きい)