

めあて い ぶんを い かこう。 ひらがなや い かつがなを い つかって い いろいろな い ことばや

① つぎの えを い みて、 い ひらがなの い ことばを い かきま  
 しょう。

1 に

と

①



2

ろ

②



3

え

③



4

き

り

④



⑤ 二 つぎの えを い みて、 い かたかなの い ことばを い かきま  
 しょう。

1 ア

ス

⑤



2

プ

⑥



3 ピ

⑦



4

サ

⑧

5 ト

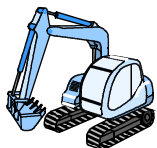
⑨



6 シ

ヨ

⑩



※つぎの ページにも もんだいが あります。

三 <sup>さん</sup>  の なかに 「へ」か、「を」を いれて、ただしい  
ぶんを つくりましょう。

1 わたしは、こうえん  いきました。 ⑪

2 そして、みんなでおべんとう  たべました。 ⑫

四 <sup>よん</sup> つぎの えをみて、ぶんを かきましょう。うすいじ  
の ところは なぞりましょう。


1  
ど ぼ  
を く  
わ は  
お  
ま だ  
た ん  
ほ



2  
い ぼ  
ば  
は  
に け  
か け  
ま じ  
し こ  
た で



3  
な わ  
ま  
し  
た は  
。 け  
ボ  
ル



⑬

⑭

⑮

■ こたえ


- 一 いち 1 にわとり 2 ろうか 3 つくえ  
 4 かきごおり
- 二 に 1 アイス 2 プール 3 ピアノ  
 4 サッカー 5 トラック 6 ショベルカー
- 三 さん 1 わたしは、こうえん(へ)いきました。  
 2 そして、みんなでおべんとう(を)たべました。
- 四 よん 1 ぼくは、おうだんほどうをわたりました。  
 2 ぼくは、かけっこでいちばんになりました。  
 3 わたしは、ボールをなげました。

■ **かんがえかた**  
 ひらがなの よみかきは すべての がくしゅうで ひつように なるので  
 すべての ひらがなの よみかきが できるように れんしゅう しましょう。  
 ぶんを かく ときには ぶんの さいごに くてん(。)を うつ ことが  
 たいせつ です。

とりくんでみよう！

○ つぎの えを みて、かたかなの ことばを かきましよう。

ズ



ノ



○ つぎの えを みて、ぶんを かきましよう。

よ		わ					
		た				ほ	
ま						ん	
し							
た							



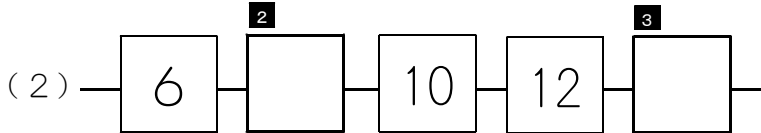
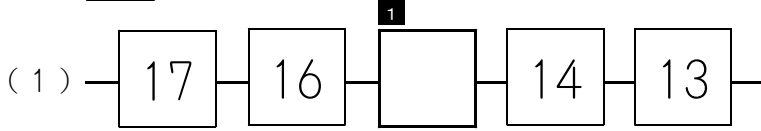
こたえ

。シフキヤキヤ到、到フキヤ  
 ノーノ  
 ス

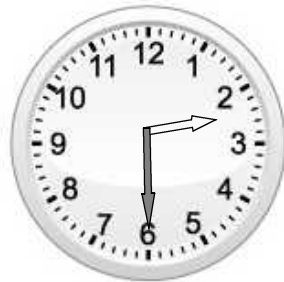
○ ○

★先生方へ～解答欄の 1 ～ 10 は、問題結果登録の設問番号に対応しています。

1 □ に あてはまる かずを かきましょう。



2 とけいを よみましょう。



4 □

3 つぎの もんだいに こたえましょう。

- (1) みかんが 3こ あります。  
りんごが 8こ あります。  
かずの ちがいは いくつですか。  
みぎの【ず】を つかって かんがえ、  
しきと こたえを かきましょう。

【ず】  
みかん ●●●  
りんご ○○○○○○○○

5 □  
しき

6 □  
こたえ

- (2) ちゅうしゃじょうに くるまが 5だい あります。  
あとから 7だい きました。  
ぜんぶで なんだいに なりましたか。  
したの【ず】を つかって かんがえ、しきと こたえを かきましょう。

【ず】 ●●●●● ○○○○○○○○

7 □  
しき

8 □  
こたえ

※つぎのページにも、もんだいがあります。

4

つぎの ①から③の もんだいを よんで、しきが  $8 + 5 - 3$  になるものを 1つえらんで、ばんごうを かきましょう。

①

くるみが 8こ ありました。  
5こ あげました。  
あとから 3こ もらいました。  
くるみは なんこに なったでしょうか。

②

がようしが 8まい ありました。  
5まい つかいました。  
また、3まい つかいました。  
のこりは なんまいでしょうか。


③

ばすに こどもが 8にん のっています。  
あとから 5にん のりました。  
つぎに 3にん おりました。  
ばすに こどもは なんにん のっていますか。

9

5

えを みて、 $4 + 3$ の しきに なる もんだいを つくりましょう。



10

〔算数〕 小1 組 番号

★先生方へ～解答欄の 1 ～10 は、問題結果登録の設問番号に対応しています。

1 (1) <sup>1</sup> 15 (2) <sup>2</sup> 8 <sup>3</sup> 14

1ずつ へって います。

2ずつ ふえて います。

2 <sup>4</sup> 2じはん  
(2じ30ぷん)

ずに なにも かいていなくても、しき、  
こたえが あっていれば せいかいです。

3 (1) 【ず】 みかん ●●● 3こ

りんご ○○○○○○○○ 8こ

<sup>5</sup> しき 8 - 3 <sup>6</sup> こたえ 5こ

ずに なにも かいていなくても、しき、  
こたえが あっていれば せいかいです。

(2) 【ず】 ●●●●● ← ○○○○○○○○

はじめ5だい

あとから7だい

<sup>7</sup> しき 5 + 7 <sup>8</sup> こたえ 12だい

4 <sup>9</sup> ③ ①のしきは、8-5+3になります。  
②のしきは、8-5-3になります。

5 <sup>10</sup> (れい)  
こうえんで こどもが 4にん あそんでいます。  
あとから 3にん やってきました。  
こどもは ぜんいんで なんにんに なったでしょう。

れいの「こどもの かず」の ほかに、「せの たかいきと せの ひくいきの かず」や  
「どんぐりの かず」「りすの かず」などでも、もんだいをつくることができます。