

著作権の関係上、一部の問題を掲載しています。

めあて 学しゅうした 漢字を 読んだり 書いたり できるように しよう。

二 次の 線部の 漢字の 正しい 読み  
方を、ひらがなで ていねいに 書きましょう。

1 手|を にぎる。

2 空|を みる。

3 目|を さます。

4 日|が のぼる。

5 学校|へ いく。

三 次の 線部の カタカナを、漢字で  
ていねいに 書きましょう。

1 チカラ|を だす。

2 イヌ|が ほえる。

3 マチ|へ いく。

4 ほそい| イト。

5 ホン|を 読む。

もんだいのこたえ

■こたえ

二

- 1 て
- 2 そら
- 3 め
- 4 ひ
- 5 がっこう

三

- 1 カ
- 2 犬
- 3 町
- 4 糸
- 5 本

とりくんでみよう!

次の 線部の カタカナを、漢字で ていねいに 書きましょう。

1 ミミを すます。

3 トシを とる。

2 ムシを かう。

4 ハヤく おきる。

答え

( > ) 吉 ヲ 毒 虫 年 乙 耳 ↓

1 つぎの けいさんを しましょう。


(1)  $3 + 8$

(2)  $12 - 7$

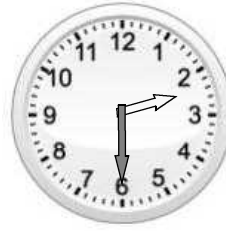
(3)  $10 - 6 + 4$

2 とけいを よみましょう。

(1)



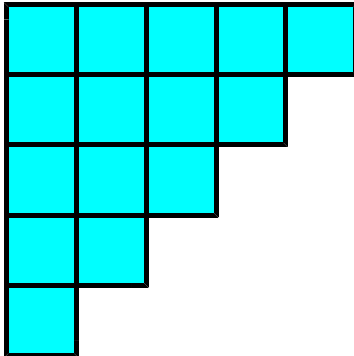
(2)



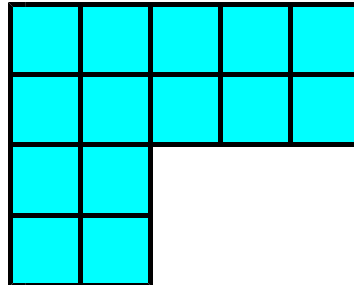
3

おなじいろいたを ㊸から㊹のように ならべました。  
ひろい じゅんに かきましょう。



㊸



㊹



㊺



ひろい

せまい

※つぎのページにも、もんだいがあります。



1

(1) 11

(2) 5

(3) 8

① 2から7はひけません。  
② 12を10と2にわけます。  
③ 10から7をひくと3です。  
④ 3と2で5です。

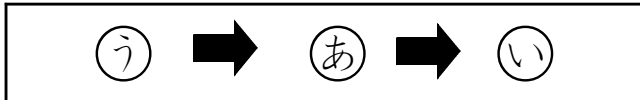
まえからじゅんばんにけいさんします。  
①  $10 - 6 = 4$ です。  
②  $4 + 4 = 8$ です。

2

(1) 8じ

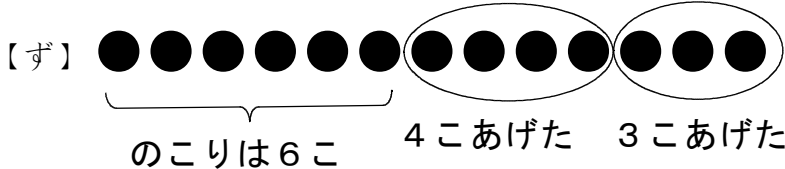
(2) 2じはん  
(2じ30ぶん)

3



いろいろたの かずを かぞえると  
あは、15まい、いは、14まい、  
うは、16まいになるので、  
ひろいじゅんは、う → あ → い  
です。

4



ずに なにも  
かいていなくても、  
しき、こたえが  
あっていれば  
せいかいです。

しき

13 - 3 - 4

こたえ

6こ

5

(1)

ほかに、「たんぼぼとチューリップのかず」でも、もんだいをつくることができます。

(れい)  
こうえんに 子どもが 5人 いました。  
あとから 2人 きました。  
子どもは ぜんぶで なん人に なりましたか。

(2)

ほかに、「せのひくい木とせのたかい木のかず」でも、もんだいをつくることができます。

(れい)  
サッカーボールが 6こ、バスケットボールが 3こ  
あります。  
どちらが なんこ おおいでしょうか。