

1

つぎの長さはどれだけでしょう。答えを( )の中からえらんで、○でかこみましょう。

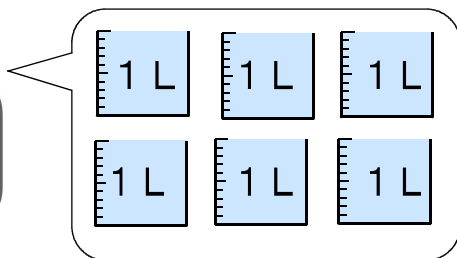
(1) 小3の算数の教科書のあつさ ( 1 mm    5 mm    5 cm )

(2) おとなのふとんのたての長さ ( 18 cm    88 cm    1 m 80 cm )

(3) 教室のたての長さ ( 6 cm    7 m    170 m )

2

下のポットに入る水のかさを、ア、イのあらわし方で書きましょう。



ア

 L

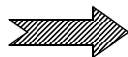
イ

 mL

3

ゆずるさんは、午前10時から正午まで野きゅうのれんしゅうをしました。

れんしゅうをした時間は何時間でしょう。




答え

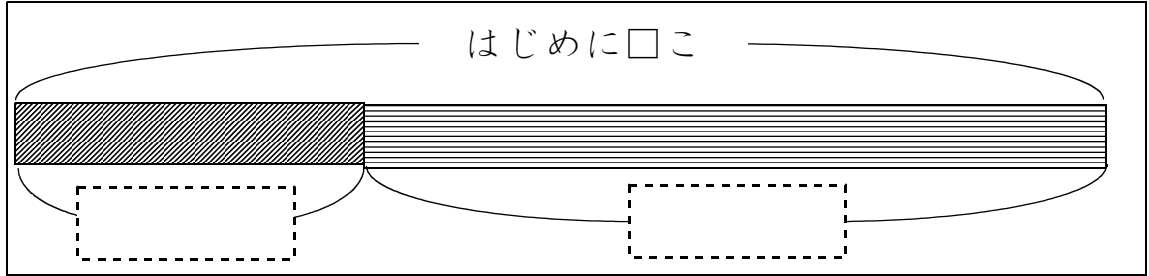


4

トマトが、何こかありました。  
15こあげたので、のこりが7こになりました。  
トマトは、はじめに何こあったでしょうか。  
下の【ず】をつかって考え、しきと答えを書きましょう。



【ず】

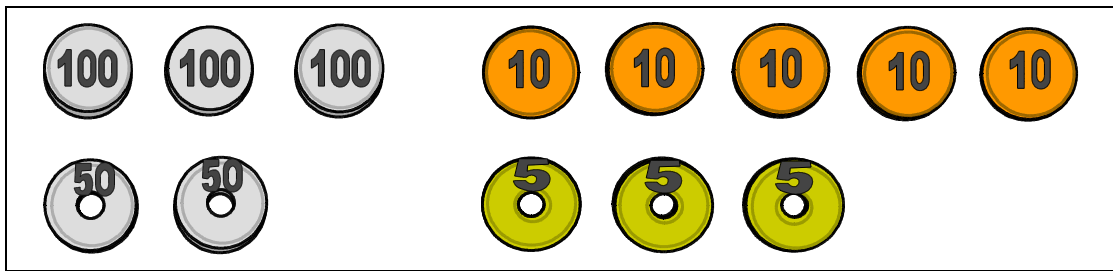


しき

答え

5

ともこさんのさいふには、下の絵のようにお金が入っています。  
265円の牛にゅうを買うとき、おつりが出ないお金の出し方を2通り書きましょう。



お金の出し方

(書き方のれい)

百円玉を1まい、五十円玉を1まい、  
十円玉を1まい、五円玉を1まい



〔算数〕小3 組 番 名前

1

(1) ( 1 mm 5 mm 5 cm )

(2) ( 18 cm 88 cm 1 m 80 cm )

(3) ( 6 cm 7 m 170 m )

2

ア  L

イ  mL


1 L = 1000 mL

3

答え

4

【ず】



わからない数は□にして考えます。

図になにも書いていなくても、しき、答えが合っていれば正かいです。

テープ図にあらわすことで、たし算とひき算のかんけいがわかりやすくなります。

しき

答え

5

(れい)

百円玉を2まい、五十円玉を1まい、十円玉を1まい、五円玉を1まい

百円玉を2まい、十円玉を5まい、五円玉を3まい

このほか、「百円玉を1まい、五十円玉を2まい、十円玉を5まい、五円玉を3まい」も正かいです。

組 番 名前

著作権の関係上、一部の問題を掲載していません。

めあて 学習した漢字を読んだり書いたりできるようにしよう。

二 次の——線部の漢字の正しい読み方を、  
ひらがなで書いてねいに書きましょう。

1 小鳥がなく。

2 みんなで走る。

3 合唱する。

4 北風がふく。

5 名前を教える。

三 次の——線部のカタカナを、漢字で  
書いてねいに書きましょう。

1 お金をカゾえる。

2 センをひく。

3 家にカエる。

4 大きなコエ。

5 まぶしいヒカリ。

問題の正答

■正答

ニ 1 ことり 2 はし(る) 3 がっ(しょう) 4 きたかぜ 5 おし(える)

三 1 数(える) 2 線 3 帰(る) 4 声 5 光

取り組んでみよう!

次の——線部のカタカナを、漢字でていねいに書きましょう。

1 ハルが来る。



3 ドクシヨをする。



2 ともだちとハナす。



4 カミをおる。



答え

雫 ヲ 暈 襲 エ (手) 毘 乙 暈 ↓