

※著作権の関係上、一部の問題を掲載していません。

平成三十一年度 ほかいごチャレンジテスト
前年度サポート問題 (第一回) 国語 小三

組 番 名前

10問中

めあて 学習した漢字を読んだり書いたりできるようにしよう。

二 次の——線部の漢字の正しい読み方を、
ひらがなでいねいに書きましょう。

1 夜道よみちを歩あく。

2 間まを通とる。

3 来店らいてんする。

4 外出がいしゅつする。

5 みんなで考かんがえる。

三 次の——線部のカタカナを、漢字で
いねいに書きましょう。

1 空そらにクモくも一つない。

2 デンキでんきをけす。

3 家いへにチカちかづく。

4 ケイサンけいさんがとくい。

5 楽たのしくウタうたう。

■ 正答

- 二 1 よみち 2 とお(る) 3 らいてん 4 がいしゅつ
5 かんが(える)

- 三 1 雲 2 電気 3 近(づく) 4 計算
5 歌(う)

取り組んでみよう!

次の——線部の漢字の正しい読み方をひらがなで、カタカナを漢字で、いねいに書きましょう。

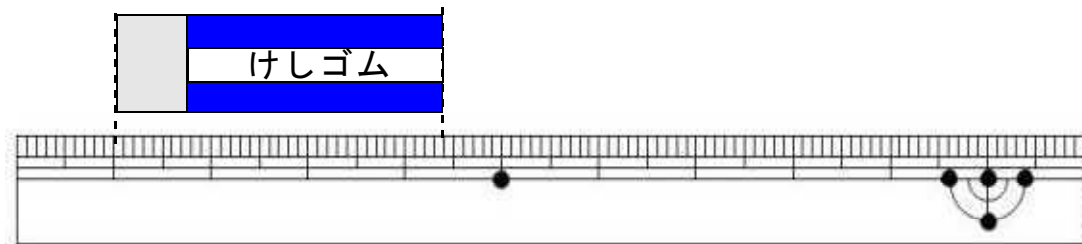
(1) 雪がとけたら、トモだちとコウエンであそびたいな。それから、新しい自てん車にのって、もっと遠くまで出かけてみたいな。

- (1) [] (2) [] (3) [] (4) []

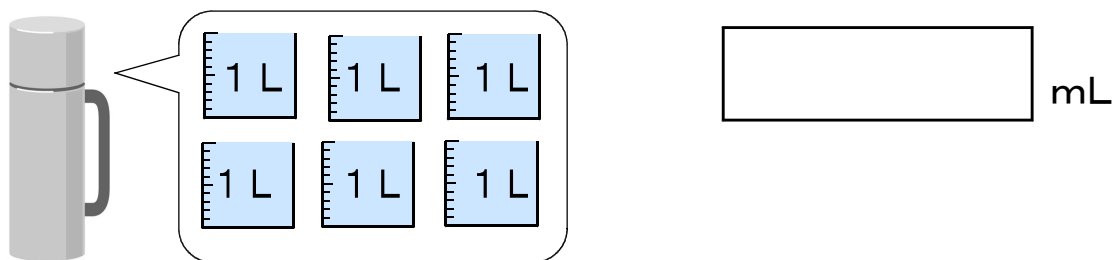
答え

- (1) オス 4 (い) (う) オ 3 園公 2 (ち) 友 1

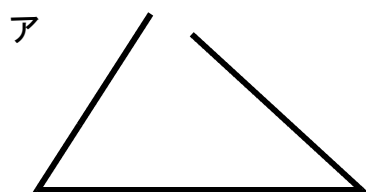
1 けしゴムの長さは、何cm何mmでしょう。



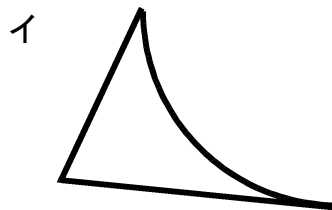
2 下の水とうに入る水のかさは、何mLでしょう。



3 つぎのアとイの形が三角形ではないわけを答えましょう。



アのわけ

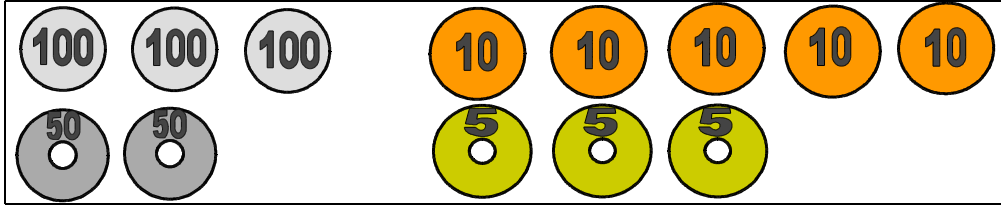


イのわけ

※次のページにも、もんだいがあります。

4

ともこさんのさいふには、下の絵のようにお金が入っています。
265円の牛にゅうを買うとき、おつりが出ないお金の出し方を2通り書きましょう。



お金の出し方

(書き方のれい)
百円玉を1まい、五十円玉を1まい、
十円玉を1まい、五円玉を1まい

5

つぎの2つの3けたの数の大きさをくらべます。

3□4	362
-----	-----

上の3けたの数の3□4の十のくらいには、まだ数字が入っていません。3□4が362よりも大きい数になるとき、□には、どのような数があてはまりますか。0から9までの中で、あてはまる数をすべて書きましょう。

6

さとしさんの家からバスまで、歩いて15分かかります。バスでいからどうぶつ園まで、バスで20分かかります。午前10時まででどうぶつ園につくには、おそくとも家を何時何分までに出ればよいでしょうか。

バスは、午前9時15分、30分、45分にバスていをはっ車します。

家を出る時こく 午前 時 分まで

〔算数〕小3 組 番氏名

1 3 c m 4 m m

2 6 0 0 0 mL

1 L = 1 0 0 0 mL

3本の直線(ちよくせん)でかこまれた形を三角形といいます。

3 ア (れい)
直線(ちよくせん)でかこまれていないから。

イ (れい)
1つの辺(へん)が直線(ちよくせん)でないから。

かこまれていないことをかいていけば、せいはいです。

辺(へん)がまがっていることをかいていけば、せいはいです。

4 (れい)
百円玉を2まい、五十円玉を1まい、十円玉を1まい、五円玉を1まい

百円玉を2まい、十円玉を5まい、五円玉を3まい

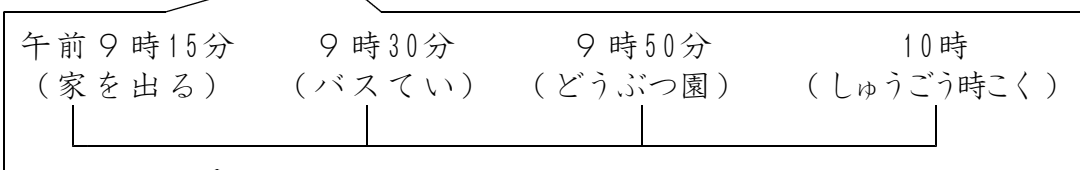
このほか、「百円玉を1まい、五十円玉を2まい、十円玉を5まい、五円玉を3まい」も正かいです。

5 6、7、8、9

- ・□の中に0 ⇒ 3 0 4 (3 6 2より小さい)
- ・□の中に1 ⇒ 3 1 4 (3 6 2より小さい)
- ・□の中に2 ⇒ 3 2 4 (3 6 2より小さい)
- ・□の中に3 ⇒ 3 3 4 (3 6 2より小さい)
- ・□の中に4 ⇒ 3 4 4 (3 6 2より小さい)
- ・□の中に5 ⇒ 3 5 4 (3 6 2より小さい)
- ・□の中に6 ⇒ 3 6 4 (3 6 2より大きい)
- ・□の中に7 ⇒ 3 7 4 (3 6 2より大きい)
- ・□の中に8 ⇒ 3 8 4 (3 6 2より大きい)
- ・□の中に9 ⇒ 3 9 4 (3 6 2より大きい)

【考え方】
3 □ 4 > 3 6 2

6 いえを出る時こく 午前9時15分まで



じゅんばんに図をかくと、家を出る時こくがわかります。