

めあて 学しゅうした かん字を よんだり かいたり できるように しよう。

1 上 を むく。 _____ _____	2 カ を こめる。 _____ _____	3 空 を ながめる。 _____ _____	4 かぜで 三日 やすむ。 _____ _____	5 お金 を はらう。 _____ _____	一 つぎの _____ せんのかん字のよみかた を、ひらがなで ていねいに かきましよう。
1 ヒト を さがす。 _____ _____	2 コ どもが あそぶ。 _____ _____	3 ミズ を のむ。 _____ _____	4 メ ぐすりを さす。 _____ _____	5 ア メが ふる。 _____ _____	ニ つぎの _____ せんのかたかなを、かん 字で ていねいに かきましよう。

■こたえ

一 1 うえ 2 ちから 3 そら 4 みつか 5 かね

二 1 人 2 子 3 水 4 目 5 雨

とりくんでみよう!

つぎの —— せんの カタカナを、かん字で ていねいに かきましよう。

1 チイ|さいこえを 出す。



3 クル|マに のる。



2 あさ|ハヤ|くに おきる。



4 ガッ|コウに いく。



こたえ

学校

4

車

3

(い) 音

2


(い) き

小


二

1 とけいを よみましょう。

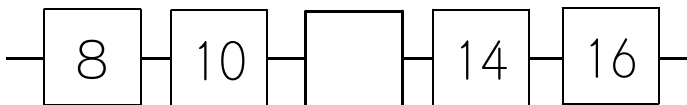
(1)



(2)



2 に あてはまる かずを かきましょう。



3 つぎの もんだいに こたえましょう。

(1) アと イの いれものは、つぎの とおり、のみものが はいります。
 アと イを くらべて、どちらが どれだけ おおく はいるか かきましょう。

ア → はいぶん

イ → はいぶん

の ほうが はいぶん おおく はいる。

※つぎのページにも、もんだいがあります。

(2) みかんが 14こ ありました。ゆうまさんに 4こ あげました。
 ゆみさんに 6こ あげました。みかんは なんこ のこりましたか。
 したの 【ず】 を つかって かんがえ、しきと ことえを かきましょう。

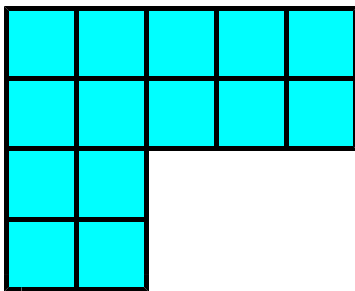
【ず】 ●●●●●●●●●●●●●●●●

しき

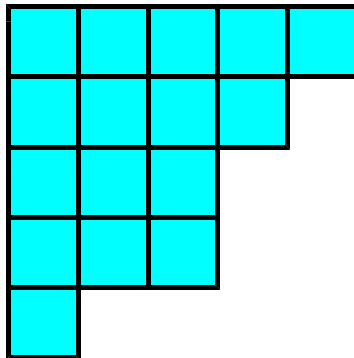
ことえ

4 おなじひろさのいろいろいたを ㊦から㊧のように ならべました。
 ひろい じゅんに かきましょう。



㊦



㊧



㊨



ひろい

せまい

5 えを 見て、 $5+3$ の しきに なる もんだいを つくりましょう。



〔算数〕 小2 組 番号 名前

1

(1) 7じ15ふん

(2) 3じ42ふん


2


1 2

2ずつふえます。

3

なかみを うつした コップの かずで くらべます。

(1) ①の ほうが  4 はいぶん おおく はいる。

(2) 【ず】  のこりは4こ 6こあげた 4こあげた
ずになにもかいていなくても、しき、こたえがあていれればせいかいです。

しき $14 - 4 - 6$

こたえ 4こ

4

⑤ → ④ → ③

いろいろの かずを かぞえると
③は、14まい、④は、16まい、
⑤は、17まいになるので、
ひろいじゅんは、⑤ → ④ → ③です。

5

(れい)
サッカーボールが 5こ、バスケットボールが 3こ
あります。
ボールは ぜんぶで なんこ ありますか。

ほかに、「たんぽぽとチューリップのかず」や「大きな木と
小さな木のかず」、「なわとびであそんでいる子どもとはしっ
てあそんでいる子どものかず」でも、もんだいをつくること
ができます。