

組 番 氏名

めあて 学習した漢字を読んだり書いたりできるようにしよう。

一 次の——線部の漢字の正しい読み方を、ひらがなでいねいに書きましょう。

1 馬が歩く。

2 車が走る。

3 顔を上げる。

4 汽車にのる。

5 魚を食べる。

二 次の——線部のカタカナを、漢字でいねいに書きましょう。

1 本をかう。

2 シツナイですごす。

3 鳥がなぐ。

4 コウサクがとくい。

5 家にかえる。

■ 正答

- 一 1 うま 2 はし(る) 3 かお 4 きしや
- 5 た(べる)

- 二 1 買(う) 2 室内 3 鳴(く) 4 工作
- 5 帰(る)

取り組んでみよう!

次の――線部の漢字の正しい読み方をひらがなで、カタカナを漢字で、いねいに書きましょう。

(1) 雪がとけたら、友だちと公園であそびたいな。それから、アタラしい自てん車に  
(4) のって、もっとトオくまで出かけてみたいな。

(1)

(2)

(3)

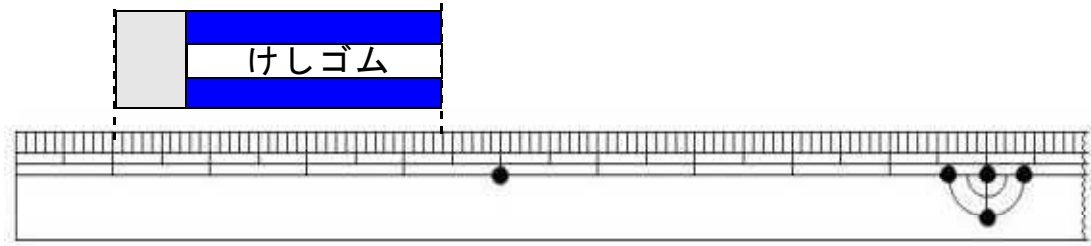
(4)

答え

(く) 野 ヲ (い) 園 8 マネンニ 2 (ウ) 自 てん車

1

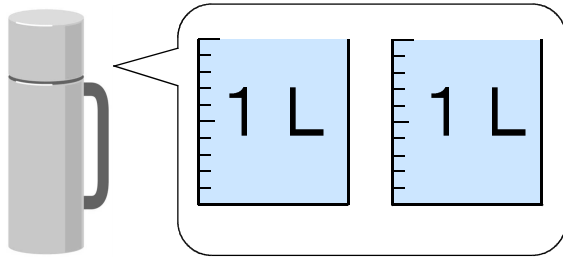
けしゴムの長さは、何cm何mmでしょう。



cm mm

2

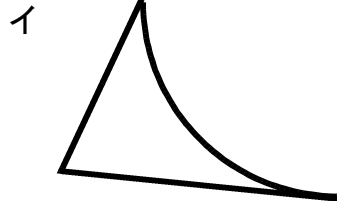
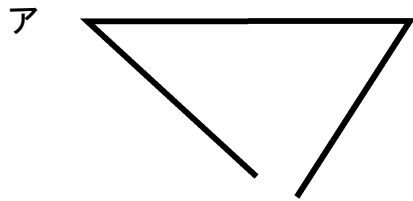
下の水とうに入る水のかさは、何mLでしょう。



mL

3

つぎのアとイの形が三角形ではないわけを答えましょう。



アのわけ

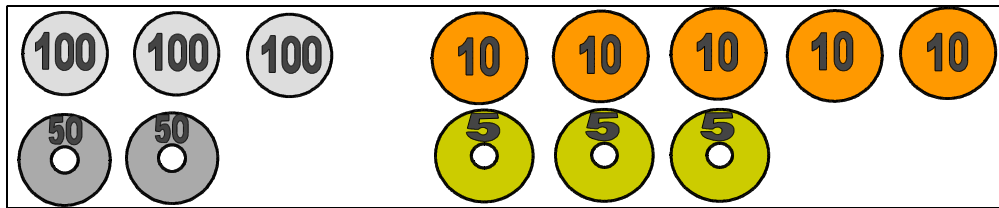
Blank box for the explanation of why shape A is not a triangle.

イのわけ

Blank box for the explanation of why shape I is not a triangle.

※ 次のページにも、問題があります。

4 ともこさんのさいふには、下の絵のように入っています。  
 265円の牛にゆうを買うとき、おつりが出ないお金の出し方を2通り書きましょう。



お金の出し方

(書き方のれい)  
 百円玉を1まい、五十円玉を1まい、  
 十円玉を1まい、五円玉を1まい

5 つぎの2つの3けたの数の大きさをくらべます。

$3 \square 4$                        $362$

上の3けたの数の  $3 \square 4$  の十のくらいには、まだ数字が入っていません。  
 $3 \square 4$  が  $362$  よりも大きい数になるとき、 $\square$  には、どのような数  
 があてはまりますか。

0から9までの中で、あてはまる数字をすべて書きましょう。

6 さとしさんは、バスに乗ってどうぶつ園に行きます。  
 さとしさんの家からバスまで、歩いて15分かかります。  
 バスは、午前9時15分、30分、45分にバスを待たせ、バスを  
 つかってどうぶつ園まで、バスで20分かかります。  
 午前10時までにどうぶつ園につくには、おそくても家を何時何分ま  
 だに出ればよいでしょうか。  
 ただし、バスを待たせには、バスがはる車する5分前までに家  
 を出ることとします。

家を出る時こく      午前                  時                  分まで

〔算数〕 小3 組 番氏名

1 3 c m 4 m m

1 L = 1 0 0 0 m L

2 2 0 0 0 m L

3本の直線 (ちよくせん) でかこまれた形を三角形といいます。

3 ア (れい) 直線 (ちよくせん) でかこまれていないから。

3 イ (れい) 1つの辺 (へん) が直線 (ちよくせん) ではないから。

かこまれていないことをかいていれば、せいかいです。

辺 (へん) がまがっていることをかいていれば、せいかいです。

4 (れい) 百円玉を2まい、五十円玉を1まい、十円玉を1まい、五円玉を1まい

百円玉を2まい、十円玉を5まい、五円玉を3まい

このほか、「百円玉を1まい、五十円玉を2まい、十円玉を5まい、五円玉を3まい」も正かいです。

5 6、7、8、9

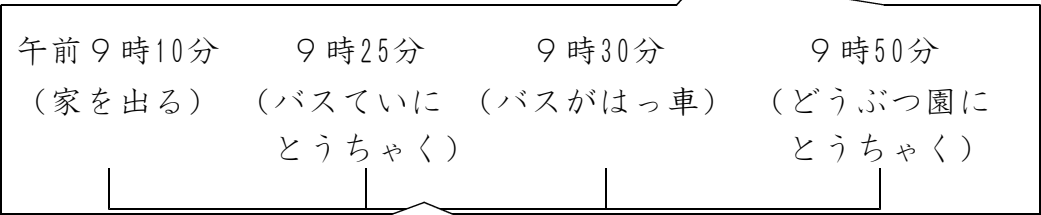
- ・□の中に0 ⇒ 3 0 4 (3 6 2より小さい)
- ・□の中に1 ⇒ 3 1 4 (3 6 2より小さい)
- ・□の中に2 ⇒ 3 2 4 (3 6 2より小さい)
- ・□の中に3 ⇒ 3 3 4 (3 6 2より小さい)
- ・□の中に4 ⇒ 3 4 4 (3 6 2より小さい)
- ・□の中に5 ⇒ 3 5 4 (3 6 2より小さい)
- ・□の中に6 ⇒ 3 6 4 (3 6 2より大きい)
- ・□の中に7 ⇒ 3 7 4 (3 6 2より大きい)
- ・□の中に8 ⇒ 3 8 4 (3 6 2より大きい)
- ・□の中に9 ⇒ 3 9 4 (3 6 2より大きい)

【考え方】

3 □ 4 > 3 6 2

6 いえ 家を出る時こく

午前9時10分まで



じゅんばんに図をかくと、家を出る時こくがわかります。