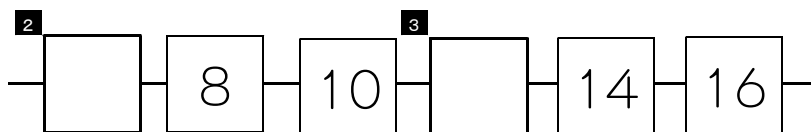


★先生方へ～解答欄の 1 ～ 11 は、問題結果登録の設問番号に対応しています。

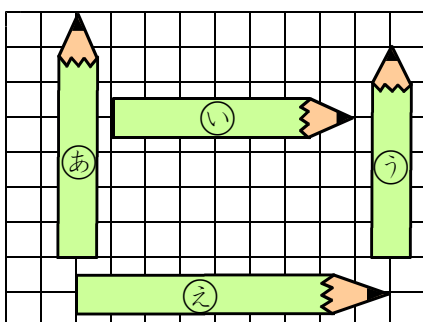
1 こたえが 大きい ほうに ○ を つけましょう。

1 $12 - 4$ $16 - 9$

2 □ に あてはまる かずを こたえましょう。



3 えんぴつの ながさを くらべます。つぎの もんだいに こたえましょう。



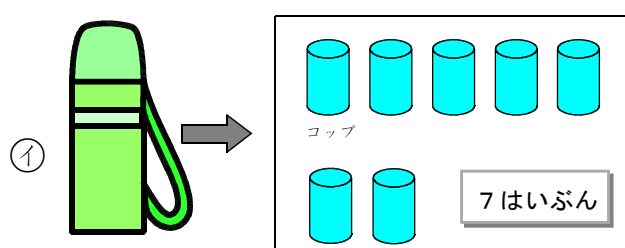
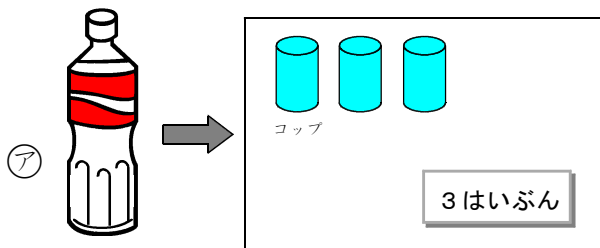
(1) いちばん ながい えんぴつを ㉠から ㉡までの なかから えらびましょう。

4


(2) いちばん みじかい えんぴつを ㉠から ㉡までの なかから えらびましょう。

5

4 ㉠と ㉡の いれものは、つぎの とおり、のみものが はいります。
㉠と ㉡を くらべて、どちらが どれだけ おおく はいるか かきましよう。



6

_____ の ほうが  _____ はいぶん おおく はいる。

つぎの ページにも、もんだいが あります。

5 つぎの もんだいに こたえましょう。

(1) けいこさんは、おりがみを 15まい もって いましたが、
5まい つかいました。

そのあと おうちの ^{ひと}人から 7まい もらいました。

いま、けいこさんは、おりがみを なんまい もって いますか。

したの【ず】を つかって かんがえ、しきと こたえを かきましょう。

【ず】 ●●●●●●●●●●●●●●●●●●

しき ⁷

こたえ ⁸

(2) かだんに あおい ^{はな}花が ^{ほん}5本、しろい ^{はな}花が ^{ほん}14本 さいています。
どちらが なん本 ^{ほん}おおいですか。

したの【ず】を つかって かんがえ、しきと こたえを かきましょう。


【ず】 あおい ^{はな}花 ●●●●●●●●

しろい ^{はな}花 ●●●●●●●●●●●●●●●●●●

しき ⁹

こたえ ¹⁰ が ^{ほん}本 おおい。

6 えを みて、4 + 3の しきに なる もんだいを つくりましょう。




¹¹

★先生方へ～解答欄の 1 ～11 は、問題結果登録の設問番号に対応しています。

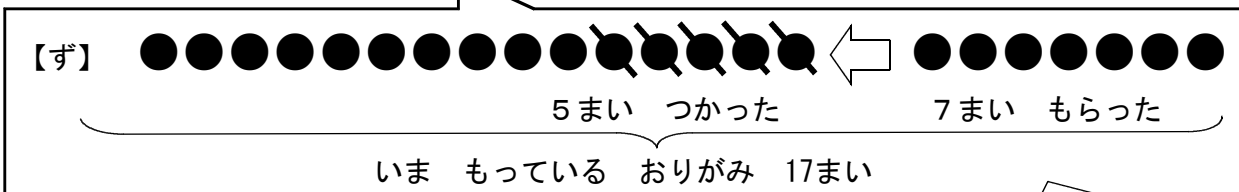
1 ¹ $12 - 4$ $16 - 9$

2 ² 6 ³ 12 2ずつふえます。

3 (1) ⁴ え (2) ⁵ う

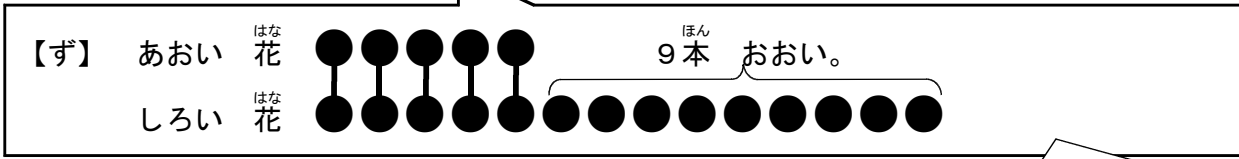
4 ⁶ なかみを うつした コップの かずで くらべます。
① の ほうが  4 はいぶん おおく はいる。

5 (1) ⁷ しき $15 - 5 + 7$ ⁸ こたえ 17まい



(2) ⁹ しき $14 - 5$ ずに なにも かいていなくても、しき、こたえが あっていれば せいかいです。

¹⁰ こたえ しろい ^{はな} 花 が 9本 ^{ほん} おおい。



ずに なにも かいていなくても、しき、こたえが あっていれば せいかいです。

6 ¹¹ (れい) いけに あひるが 4わ います。
あとから 3わ きました。
あひるは ぜんぶで なんわに なりましたか。

れいの 「あひるの かず」の ほかに、「じどうしゃの かず」や「せの たかい ^き 木と
せの ひくい ^き 木の かず」、「花の ^{はな} かず」でも もんだいをつくること できます。